



BA – AÖL / 2012 – III.DÖNEM - Cumartesi 09.00

BİRİNCİ OTURUM

TEST GRUBUNUZ

B

CEVAP KÂĞIDINIZA İŞARETLEMİYİ UNUTMAYINIZ.

ÖĞRENCİNİN

SOYADI :

ADI :

ÖĞRENCİ NO :

SINAV SALON NO: SIRA NO:

Soyadınızı, adınızı, öğrenci numaranızı, salon ve sıra numaranızı yukarıya yazmayı unutmayınız.

GENEL AÇIKLAMA

1. Bu soru kitapçığındaki testler şunlardır:

| Testin Adı | Soru Sayısı | Sayfa No |
|-------------------------------------|-------------|----------|
| DİN KÜLTÜRÜ VE AHLAK BİLGİSİ 1 | 20 | 2 |
| DİN KÜLTÜRÜ VE AHLAK BİLGİSİ 7 | 20 | 4 |
| COĞRAFYA 2 | 20 | 6 |
| COĞRAFYA 8 | 20 | 8 |
| MATEMATİK 3 | 20 | 10 |
| MATEMATİK 4 | 20 | 14 |
| GEOMETRİ 2 | 20 | 18 |
| YABANCI DİL 1 (ALM.1, FRA.1, İNG.1) | 20 | 22 |
| SOSYOLOJİ 2 | 20 | 31 |
| TURİZM 1 | 20 | 33 |
| DİL VE ANLATIM 5 | 20 | 36 |

| Testin Adı | Soru Sayısı | Sayfa No |
|-------------------------------------------|-------------|----------|
| KİMYA 2 | 20 | 38 |
| BİYOLOJİ 3 | 20 | 41 |
| BİYOLOJİ 7 | 20 | 43 |
| DEMOKRASİ VE İNSAN HAKLARI 1 | 20 | 46 |
| MİLLİ GÜVENLİK BİLGİSİ 2 | 20 | 48 |
| İŞ GÜVENLİĞİ 2 | 20 | 50 |
| SANAT TARİHİ 1 | 20 | 52 |
| SEÇMELİ TÜRK EDEBİYATI 4 | 20 | 54 |
| SEÇMELİ YABANCI DİL 6 (ALM.6,FRA.6,İNG.6) | 20 | 56 |
| SEÇMELİ YABANCI DİL 5 (ALM.5,FRA.5,İNG.5) | 20 | 65 |

2. Bu kitapçıkta yer alan her bir test için cevaplama süresi **30** dakika, toplam sınav süresi **150** dakikadır.
3. Cevaplamaya istediğiniz testin, istediğiniz sorusundan başlayabilirsiniz. Yalnız cevaplarınızı, cevap kâğıdında o test için ayrılmış olan bölümdeki aynı numaralı cevap yerine işaretlemeyi unutmayınız.
4. Cevaplarınızı koyu siyah ve yumuşak bir kurşunkalemle işaretleyiniz. İşaretinizi cevap yerinin dışına taşırmayınız. Tükenmez veya mürekkepli kalem kullanmayınız.
5. Değiştirmek istediğiniz bir cevabı yumuşak bir silgi ile, cevap kâğıdını örselemeden temizce siliniz ve doğru cevabınızı işaretlemeyi unutmayınız.
6. Cevap kâğıdınızı buruşturmayınız, katlamayınız ve üzerine gereksiz hiçbir işaret koymayınız.
7. Bu kitapçıkta her sorunun bir tek doğru cevabı vardır. Bir soru için birden çok cevap yeri işaretlenmişse o soru yanlış cevaplanmış sayılacaktır.
8. Cevaplarınız puanlanırken her doğru cevabınıza eşit puan verilecek, yanlış cevaplarınız dikkate alınmayacaktır. Bu nedenle kitapçıkta tüm sorular için size doğru gelen seçeneği işaretleyerek cevapsız soru bırakmamanız yararınıza olacaktır.
9. Kitapçığın sayfalarındaki boş yerleri müsvedde için kullanabilirsiniz.

Anadolu Üniversitesi tarafından hazırlanmış olan bu testlerin her hakkı saklıdır. Hangi amaçla olursa olsun, testlerin tamamının veya bir kısmının Anadolu Üniversitesi'nin yazılı izni olmadan kopya edilmesi, fotoğraflarının çekilmesi, herhangi bir yolla çoğaltılması, yayımlanması ya da kullanılması yasaktır. Bu yasağa uymayanlar gerekli cezai sorumluluğu ve testlerin hazırlanmasındaki mali külfeti peşinen kabullenmiş sayılır.

DİN KÜLTÜRÜ VE AHLAK BİLGİSİ 1

B

2012 3D 0101-B

1. Akıllı her insanın doğasında var olan Allah'ı birleme, O'na iman ve itaat etme isteğine ne ad verilir?

- A) Gelenek
- B) Fıtrat
- C) İcazet
- D) Ahlâk
- E) İbadet

2. Agnostisizm felsefe akımının kurucusu kimdir?

- A) Nietzsche
- B) Bertrand Russell
- C) Kant
- D) Sartre
- E) T. H. Huxley

3. Namaz kılabilmenin ilk şartı aşağıdakilerden hangisidir?

- A) Dinin emrettiği şekilde örtünmek
- B) Namaz vaktine girmiş olmak
- C) Abdest almak
- D) Kılınacak namaza niyet etmek
- E) Kâbe'ye doğru dönmek

4. Bütün dinler arasında tek tanrı anlayışını en saf şekliyle koruyan din aşağıdakilerden hangisidir?

- A) Şamanizm
- B) Hristiyanlık
- C) Yahudilik
- D) Hinduizm
- E) İslamiyet

5. Hz. Muhammed'in süt annesinin adı nedir?

- A) Halime
- B) Âmine
- C) Fatma
- D) Hatice
- E) Ayşe

6. Abdest ya da gusül almak için temiz su bulunamadığı durumlarda temiz bir toprakla yüz ve kolların mesh edilmesine ne ad verilir?

- A) Teemmül
- B) Tevekkül
- C) Teyemmüm
- D) Teheccüt
- E) Tefekkür

7. Aşağıdakilerden hangisi ilk Müslümanlardan biridir?

- A) Hz. Osman
- B) Hz. Hamza
- C) Ebu Cehil
- D) Hz. Hatice
- E) Hz. Talip

8. Aşağıdaki davranışlardan hangisi ibadet değildir?

- A) Sadaka vermek
- B) Yemek yemek
- C) Çevreyi temiz tutmak
- D) Hacca gitmek
- E) Okumak

9. Alemlere bereket ve hidayet kaynağı olarak insanlar için kurulan ilk ev Kâbe nerededir?

- A) Taif
- B) Umman
- C) Medine
- D) Mekke
- E) Kudüs

10. Hz. Muhammed kaç yılında doğmuştur?

- A) 562
- B) 571
- C) 589
- D) 622
- E) 632

B

2012 3D 0101-B

11. Aşağıdakilerden hangisi mal ile yapılan ibadetlerden biridir?

- A) Çalışmak
- B) Namaz kılmak
- C) Oruç tutmak
- D) Zekât vermek
- E) Çevreyi temiz tutmak

12. Monoteizm inanişının karşısındaki inaniş biçimi aşağıdakilerden hangisidir?

- A) Politeizm
- B) Gnostisizm
- C) Agnostisizm
- D) Ateizm
- E) Satanizm

13. Kur'an-ı Kerim kaç yılda indirilmiştir?

- A) 11
- B) 12
- C) 15
- D) 19
- E) 23

14. Aşağıdakilerden hangisi abdestin farzlarından biri değildir?

- A) Elleri dirseklere kadar yıkamak
- B) Yüzü yıkamak
- C) Başı meshetmek
- D) Ayakları topuklarla beraber yıkamak
- E) Bütün bedeni kuru yer kalmayacak şekilde yıkamak

15. Kur'an-ı Kerim'in iki kapak arasında toplanması ve kitap haline getirilmesi kimin zamanında olmuştur?

- A) Hz. Ebu Bekir
- B) Hz. Ömer
- C) Hz. Ali
- D) Hz. Osman
- E) Hz. Ebu Talip

16. Kur'an-ı Kerim'in çoğaltılarak değişik bölgelere gönderilmesi kimin zamanında olmuştur?

- A) Hz. Ali
- B) Hz. Ebu Talip
- C) Hz. Osman
- D) Hz. Ömer
- E) Hz. Ebu Bekir

17. İlk peygamber kimdir?

- A) Hz. Muhammed
- B) Hz. Adem
- C) Hz. Yusuf
- D) Hz. İsa
- E) Hz. İbrahim

18. Hz. Muhammed'e vahiy getiren melek aşağıdakilerden hangisidir?

- A) İsrail
- B) Mikail
- C) Hafaza melekleri
- D) Cebrail
- E) Kiramen kâtibin

19. Aşağıdakilerden hangisi Kur'an-ı Kerim'in isimlerinden biri değildir?

- A) Nur
- B) Zikr
- C) Tefsir
- D) Hakim
- E) Furkan

20. Yüce Allah'ın emirlerini, yasaklarını ve öğütlerini değişik yollarla peygamberlerine bildirmesine ne ad verilir?

- A) Vahiy
- B) Sünnet
- C) İcma
- D) Kıyas
- E) Kaza

DİN KÜLTÜRÜ VE AHLAK BİLGİSİ 7

B

2012 3D 0101-B

1. İslam dininde geçen kavramlarla ilgili aşağıdaki ifadelerden hangisi yanlıştır?

- A) Sünnet, Kur'an'ın açıklayıcısıdır.
- B) Kur'an, Peygamberimizin İslam'ı tebliğ etmek ve açıklamakla görevli olduğunu bildirir.
- C) Hadis, sünnetten daha kapsamlıdır.
- D) Fılli sünnet, Peygamberimizin ortaya koyduğu uygulamalardır.
- E) Hadis, Hz. Peygamberin sözleridir.

2. Kütüb-i Sitte'nin altıncı kitabını aşağıdakilerden hangisi yazmıştır?

- A) Buhari
- B) Nesai
- C) Tirmizi
- D) İbn Mace
- E) Ebu Davud

3. İslam'da yüce kudret karşısında kulluğu en iyi ifade eden ibadet şekli aşağıdakilerden hangisidir?

- A) Zekat
- B) Hac
- C) Namaz
- D) Oruç
- E) Yardımseverlik

4. Ahiret'e iman eden bir insan için aşağıdakilerden hangisi yanlıştır?

- A) İnsanı dünya hayatının güzelliğinden mahrum kalmasını gerektirir.
- B) İnsanın yaptıklarının sorumluluğunu taşıma şuurudur.
- C) İnsana, sonsuzluğu kazandırmak için bir aksiyon ruhudur.
- D) İnsanın dünya hayatında yaptığı şeylerin bir karşılığının olduğunu hatırlatır.
- E) İnsanın ilahi adalete güvenme duygusunu verir.

5. Budistlerin ibadet yerlerine ne ad verilir?

- A) Mescit
- B) Sinagog
- C) Kilise
- D) Pagoda
- E) Katedral

6. Aşağıdakilerden hangisi Alevilik- Bektaşilikte "Üç Sünnet Yedi Farz" kavramında geçen yedi farzdan biri değildir?

- A) Gördüğünü örtmek
- B) Hakkı zikretmek
- C) Sımnı izhar etmemek
- D) Mürebbi hakkını gözetmek
- E) Özür ile niyaz eylemek

7. "Ruz-i visalin" ne demektir?

- A) Kavuşma gününün bayramı
- B) Ölümün geldiği yer
- C) Canın gövdeye konuk olması
- D) Ölümün gerçekliği
- E) Yaşarken yapılan iyilikler

8. Her konuda haddini bilip, sınırı aşmamak, insanlara iyi muamelede bulunmak, güzel ahlak anlamına gelen kavram aşağıdakilerden hangisidir?

- A) Zikir
- B) Silsile
- C) Mürid
- D) Edeb
- E) Sufi

9. Tasavvufun asıl kaynağı aşağıdakilerden hangisidir?

- A) Namaz
- B) Kur'an ve Sünnet
- C) Mutasavvıf
- D) Beka
- E) Sufilik

10. "Aşkın maşukuna kavuştuğu gece, vuslat gecesı" anlamına gelen kavram aşağıdakilerden hangisidir?

- A) Mahşer
- B) Nazm-ı Celil
- C) Takvim-i ömür
- D) Kıyam
- E) Şeb-i arus

11. Aşağıdakilerden hangisi Mevleviliğin temel ilkelerinden biri değildir?

- A) Dindar olmak
- B) Sabırlı, güler yüzlü ve nazik olmak
- C) Bilimle uğraşmak
- D) Zengin olmak
- E) Mesnevi okumak ve mutasavvıf olmak

B

2012 3D 0101-B

12. Yahudilikte evrenin ve insanın kaderinin belirlenmesini temsil eden, Yahudi takvimine göre, Eylül- Ekim aylarına denk gelen bir zamanda iki gün olarak kutlanan, tövbe ve ibadet ederek tanrıdan bağışlanma dilenen gün aşağıdakilerden hangisidir?

- A) Siddur
- B) Yom-Kipur
- C) Roş-Haşana
- D) Bodhi Gaya
- E) Evharistiya

13. Hz. Peygamberin peygamberlik vasfıyla ortaya koyduğu sünnete ne ad verilir?

- A) İmamet
- B) Risalet
- C) Te'kid
- D) İfta
- E) Beyan

14. Dualarını, mabed veya evde tanrılara piring ve piring şarabı sunarak yerine getirenlerin dini aşağıdakilerden hangisidir?

- A) Budizm
- B) Mistisizm
- C) Şintoizm
- D) Maniheizm
- E) Hinduizm

15. Aşağıdakilerden hangisi Sünen türünde eserler vermemiştir?

- A) İbn Mace
- B) Tirmizi
- C) Nesai
- D) Ebu Davud
- E) Buhari

16. "Allahın koyduğu kurallar, ilahi kanunlar." anlamına gelen kavram aşağıdakilerden hangisidir?

- A) Hadis
- B) Takrir
- C) Sünnet
- D) Takriri sünnet
- E) Sünnetullah

17. Hristiyanlıkta Hz. İsa'nın havarileriyle yediği yemeğin anısını ifade eden ve Pazar günleri yapılan ayine ne ad verilir?

- A) Evharistiya
- B) Mezmur
- C) Tallit
- D) Amida
- E) Kilise günü

18. Ahilik anlayışına göre Hz. Muhammed kimlerin piri olarak kabul edilmiştir?

- A) Seyyahlar
- B) Bahçıvan, çoban ve tacirler
- C) Fırıncılar
- D) Saatçiler
- E) Hekimler

19. I. Öldürülmüş eşkıya
II. Kasten ana babasını öldüren
III. Yol kesiciler

Yukarıdakilerden hangisinin cenaze namazı kılınmaz?

- A) Yalnız I
- B) Yalnız II
- C) Yalnız III
- D) II ve III
- E) I, II ve III

20. O demde ki, perdeler kalkar perdeler iner
Azrail'e "hoş geldin" diyebilmekte hüner.
Kapı kapı bu yolun son kapısı ölümse;
Her kapıda ağlayıp, o kapıda gülümse

Ölüm duygusunun bahsedildiği bu dörtlüğün yazarı aşağıdakilerden hangisidir?

- A) Necip Fazıl Kısakürek
- B) Yusuf Has Hacıp
- C) Hafız Şirazi
- D) Hz. Mevlana
- E) Yunus Emre

COĞRAFYA 2

B

2012 3D 0101-B

1. İşlenmemiş (hammadde) ya da yarı işlenmiş maddelerin, fabrikalarda işlenerek kullanılabilir duruma getirilme işine ne ad verilir?

- A) Ekonomik faaliyet
- B) Mesleki eğitim
- C) Sanayi
- D) Ulaşım sektörü
- E) Tarımsal üretim

2. Bir ülkenin siyasi sınırları içinde olmakla beraber gümrük hattı dışında sayılan, ülkede geçerli ticari, mali ve ekonomik alanlara ilişkin hukuki ve idari düzenlemelerin kısmen uygulandığı, sanayi ve ticari faaliyetler için daha geniş teşviklerin tanındığı yerlere ne ad verilir?

- A) Fuar
- B) Gümrük bölgesi
- C) Liman
- D) Serbest bölge
- E) Açık pazar

3. Aşağıdaki şehirlerden hangisinin nüfusunda mevsimsel farklılık daha fazladır?

- A) Eskişehir
- B) Nevşehir
- C) Yozgat
- D) Antalya
- E) Kayseri

4. Ekvatora uzaklıkları hemen hemen aynı olan Çanakkale ve Ağrı'nın ortalama sıcaklıklarının farklı olmasının nedeni aşağıdakilerden hangisidir?

- A) Akarsuların uzanışları
- B) Boylam derecesi
- C) Yükselti
- D) Bitki örtüsü
- E) Enlem derecesi

5. Aşağıdakilerden hangisi ülkemizdeki volkanik sönmüş yanardağlardan biri değildir?

- A) Ağrı Dağı
- B) Koroğlu Dağı
- C) Erciyes Dağı
- D) Süphan Dağı
- E) Nemrut Dağı

6. Aşağıdakilerden hangisi Türkiye'de görülen en yaygın köy altı yerleşmelerinden biri değildir?

- A) Belde
- B) Mezra
- C) Çiftlik
- D) Kom
- E) Yayla

7. Doğu Anadolu Bölgesi'nde akarsuların enerji üretim potansiyelinin yüksek olmasının temel nedeni aşağıdakilerden hangisidir?

- A) Kışların kar yağışlı geçmesi
- B) Yeraltı sularının çok zengin olması
- C) Bölgenin engebeli olması
- D) Bölgede karstik arazinin bol olması
- E) Bölgede tarım yerine hayvancılığın tercih edilmesi

8. Anadolu arazisinin yükselmeye başlayıp su yüzüne çıkması ve Anadolu yarımadasının genel görünümünü alması jeolojik zamanların hangisinde olmuştur?

- A) Kuaterner
- B) Mezozoik
- C) Paleozoik
- D) Prezoik
- E) Tersiyer

9. Aşağıdakilerden hangisi Mezopotamya, İndus Vadisi, Kuzey Çin gibi insanların yerleşik hayata ilk olarak geçtikleri yerlerin ortak özelliklerinden biri değildir?

- A) Aşırı soğuk olmaması
- B) Yağışın yeterli olması
- C) Zengin maden yataklarının varlığı
- D) Verimli toprakların olması
- E) Akarsuların bulunması

10. Aşağıdaki illerden hangisinin yıllık ortalama sıcaklık değerleri diğerlerinden daha fazladır?

- A) Erzurum
- B) Kayseri
- C) Sivas
- D) Bursa
- E) İzmir

B

2012 3D 0101-B

11. Aşağıdakilerden hangisi nüfusun çeşitli özelliklerini, dağılışını, hareketlerini ve nüfus hareketlerinden doğan sorunları inceler?

- A) Ulaşım coğrafyası
- B) Sanayi coğrafyası
- C) Turizm coğrafyası
- D) Nüfus coğrafyası
- E) Tarım coğrafyası

12. Özellikle Ürgüp-Göreme çevresinde yaygın olarak görülen, volkanik dağlardan çıkan malzemelerin biriktiği araziler üzerinde sel sularının aşındırma yaparak oluşturduğu şekiller aşağıdakilerden hangisidir?

- A) Peri bacaları
- B) Birikinti konisi
- C) Polye
- D) Dev kazanı
- E) Kırgıbayır

13. Doğu Karadeniz'de dağların kıyıya paralel uzanmasının aşağıdakilerden hangisi üzerinde etkili olduğu söylenemez?

- A) Kıyı kesiminde bol yağış isteyen bitkilerin yetişmesi
- B) Kuzeyden esen rüzgarların soğuk olması
- C) Denizel etkinin iç kesimlerde görülmemesi
- D) Kıyı ile iç kesimler arasında ulaşımın güç olması
- E) Dağların denize bakan yamaçlarında bol yağış oluşması

14. Aşağıdakilerden hangisi kıyı ovalarından biri değildir?

- A) Çukurova
- B) Düzce
- C) Bafra
- D) Silifke
- E) Çarşamba

15. Aşağıdakilerden hangisi zirvesinde takke buzulu olan Türkiye'nin en yüksek dağıdır?

- A) Ağrı
- B) Tendürek
- C) Süphan
- D) Erciyes
- E) Nemrut

16. Aşağıdaki iklim çeşitlerinin hangisinde yaz ile kış arasındaki sıcaklık farkı daha azdır?

- A) Güneydoğu Anadolu Karasal İklimi
- B) İç Anadolu Karasal İklimi
- C) İç Ege İklimi
- D) Doğu Anadolu Karasal İklimi
- E) Doğu Karadeniz İklimi

17. Türkiye'de kayaların erimesiyle oluşan karstik şekiller hangi kayaçların bulunduğu yörelerde daha fazla oluşurlar?

- A) Granit
- B) Kireçtaşı
- C) Kumtaşı
- D) Bazalt
- E) Andezit

18. Aşağıdaki akarsu havzalarından hangisi dışa akışı olmaya kapalı havza özelliğindedir?

- A) Kızılırmak Havzası
- B) Yeşilirmak Havzası
- C) Sakarya Havzası
- D) Menderes Havzası
- E) Tuz Gölü Havzası

19. Akarsuların eğiminin azaldığı yerlerde sağa sola büküm yaparak akması ile oluşan şekillere ne ad verilir?

- A) Kırgıbayır
- B) Vadi
- C) Dev kazanı
- D) Menderes
- E) Peribacası

20. Aşağıdaki şehirlerden hangisi günümüzde idari kent özelliğinde değildir?

- A) New York
- B) Paris
- C) Moskova
- D) Ankara
- E) Bakü

2012 3D 0101-B

1. Aşağıdakilerden hangisi DOKAP (Doğu Karadeniz Projesi) projesinin uygulandığı bölgenin başlıca sorunlarından biridir?

- A) Kişi başına düşen milli gelirin az olması
- B) Tarla ürünlerinde çeşitliliğin olması
- C) Organize sanayi bölgelerinin yoğun olması
- D) Ulaştırma alt yapısının olmaması
- E) Meraların yoğun olması

2. Cumhuriyetin ilk yıllarında nüfus artışını özendirici politikalar izlenmiş ancak 1940-1945 yılları arasında nüfus artış hızının düştüğü görülmüştür.

Aşağıdakilerden hangisi bu durumun nedenlerinden biridir?

- A) Yurt dışından göçmen kabulünün yasaklanması
- B) İkinci Dünya Savaşı'nın ülkemizde yarattığı olumsuz sonuçlar
- C) Salgın hastalıkların artması
- D) Yaşanan doğal afetler sonucunda ortaya çıkan insan kayıpları
- E) Yurtdışına olan göçün hızlanması

3. Artvin, Bayburt, Giresun gibi illeri kapsayan proje aşağıdakilerden hangisidir?

- A) DAP
- B) ZBK
- C) Yeşilirmak HGP
- D) DOKAP
- E) GAP

4. Aşağıdakilerden hangisi Güneydoğu Anadolu'da sulama imkanlarının geliştirilmesi ile ortaya çıkması hedeflenen sonuçlardan biri değildir?

- A) Tarım ürünlerinde çeşitliliğin artması
- B) Toprağın her yıl ekilmesinin sağlanması
- C) Bölgedeki kalabalık nüfusun giderek azalması
- D) Pamuk üretiminde artışın sağlanması
- E) Toprağın verim gücünün artması

5. Aşağıdakilerden hangisi Cumhuriyet'in ilk yıllarında uygulanan nüfus politikalarından biri değildir?

- A) Doğum evlerinin kurulması
- B) Ücretsiz ilaç dağıtımı
- C) Şehirlere göçün teşviki
- D) Gümrük muafiyeti
- E) Çok çocuklu ailelerin para yada madalya ile ödüllendirilmesi

6. Aşağıdakilerden hangisi fizibilite çalışmaları tamamlanan projelerin hayata geçirilmesiyle, söz konusu bölgelerde hedeflenen temel gelişmelerden biri değildir?

- A) Kişi başına düşen milli geliri artırmak
- B) İstihdamı azaltmak
- C) Tarımsal gelişme ve hayvancılığın gelişmesini sağlamak
- D) Kalkınmayı hızlandıracak aktiviteleri yaygınlaştırmak
- E) Göçleri azaltmak

7. Aşağıdakilerden hangisi dünya çapında faaliyet gösteren küresel örgütlerden biridir?

- A) Nafta
- B) AGİT
- C) Avrupa Birliği
- D) Karadeniz Ekonomik İşbirliği
- E) IMF

8. Aşağıdakilerden hangisi Türkiye' yi doğrudan ilgilendiren sorunlardan biridir?

- A) Irak sorunu
- B) Kosova sorunu
- C) Makedonya sorunu
- D) Filistin sorunu
- E) Bosna-Hersek sorunu

9. Türkiye'nin nüfusu 1927'den 2000 yılına kadar 13.6 milyondan 67.8 milyona yükselmiştir. Bu hızlı artışın nedenleri arasında aşağıdakilerden hangisi gösterilemez?

- A) Ekonomik koşulların iyileşmesi
- B) Sosyal yaşam koşullarının gelişmesi
- C) Beslenme koşullarının düzelmesi
- D) Yurtdışına işçi göçü ile sağlanan gelirin artması
- E) Sağlık hizmetlerinin gelişmesi

10. Aşağıdakilerden hangisi yeryüzünde nesli tükenmekte olan hayvanlardan biri değildir?

- A) Kaplanlar
- B) Develer
- C) Deniz kaplumbağaları
- D) Pandalar
- E) Kutup ayıları

2012 3D 0101-B

11. Aşağıdakilerden hangisi sınır komşusu olduğumuz ülkeler arasında yer almaz?

- A) Irak
- B) Suriye
- C) Gürcistan
- D) İran
- E) Afganistan

12. Aşağıdakilerden hangisi Türkiye'nin jeopolitik önemini artıran unsurlardan biri değildir?

- A) Yükseltisinin batıdan doğuya doğru artması
- B) Farklı kültür bölgelerine yakın olması
- C) Zengin petrol kaynakları bölgelerine komşu olması
- D) Üç tarafının denizlerle çevrili olması
- E) Boğazlara sahip olması

13. Aşağıdakilerden hangisi petrol bakımından zengin olan Hazar Bölgesi'nde yer alan ülkelerdendir?

- A) Afganistan-Özbekistan
- B) Afganistan-Tacikistan
- C) Azerbaycan-Türkmenistan
- D) Malezya-Endonezya
- E) Hindistan-Pakistan

14. Kazakistan ve Azerbaycan petrolünü, Türkmenistan ise doğalgazını aşağıdaki hatlardan hangisiyle dünya piyasalarına ulaştırmaktadır?

- A) Nabucco boru hattı
- B) Bakü-Tiflis-Ceyhan boru hattı
- C) Kazakistan-Çin boru hattı
- D) Bakü-Tiflis-Erzurum-Ankara boru hattı
- E) Kazakistan-Türkmenistan-İran boru hattı

15. Aşağıdakilerden hangisi meşe ağacının faydalarından biri değildir?

- A) Ekolojik, ekonomik ve biyolojik öneme sahiptir.
- B) Çeşitli hayvanlara doğal barınak sağlar.
- C) Toprağın geçirgenliğini azaltır.
- D) Yaprakları ile toprağı besler.
- E) Derin ve saçak kök sistemi ile toprağı korur, erozyonu önler.

16. Dünya'nın akciğerleri olarak adlandırılan Amazon yağmur ormanları hangi kıtada yer almaktadır?

- A) Güney Amerika
- B) Afrika
- C) Avustralya
- D) Kuzey Amerika
- E) Asya

17. Aşağıdakilerden hangisi Çin' in önemli akarsularından biri değildir?

- A) Mavi ırmak
- B) Sarı ırmak
- C) Mekong
- D) Benue
- E) Sonkuo

18. Aşağıdakilerden hangisi uluslararası sıcak çatışmalara neden olan beşeri ve ekonomik unsurlardan biridir?

- A) Toprak paylaşımı
- B) Su kaynaklarının paylaşımı
- C) Yeraltı zenginliklerinin paylaşımı
- D) Enerji kaynaklarının paylaşımı
- E) Bağımsızlık istekleri

19. Aşağıdakilerden hangisi Türkiye'nin kaybolmakta olan sulak alanlarından biri değildir?

- A) Kahramanmaraş Gavur Gölü
- B) Hatay-Amik Gölü
- C) Van Gölü
- D) Akşehir Gölü
- E) Burdur Kestel Gölü

20. Aşağıdakilerden hangisi Birleşmiş Milletler'in kuruluş amacıdır?

- A) Petrol fiyatlarını ve üretim miktarlarını belirlemek
- B) Ülkeler arasında ayırım gözetmeksizin dünya ticaretinin geliştirilmesine destek vermek
- C) Dünya para meselelerinin çözülmesi için ülkeler arasında işbirliği sağlamak
- D) Ulaştırma ve haberleşme olanaklarında ortak projelerin geliştirilmesi ve gerçekleştirilmesine destek vermek
- E) İkinci Dünya Savaşı'nı kazanan ülkeler tarafından savaş sonunda ortaya çıkabilecek anlaşmazlıkları çözmek, dünya barış ve güvenliğini sağlamak

MATEMATİK 3

B

2012 3D 0101-B

1. $P(x) = (3x^3 - 2x^2 + 1)^{m-3}$ polinomunda katsayılar toplamı 32 ise m kaçtır?

A) 1
B) 2
C) 3
D) 5
E) 8

2. $\frac{P(3x-4)}{Q(x)} = 4x^2 - 10x + 8$ bağıntısı veriliyor.

$Q(x)$ polinomunun $(x-3)$ ile bölümünden kalan 6 olduğuna göre, $P(5)$ in değeri kaçtır?

A) 106
B) 84
C) 67
D) 44
E) 36

3. $P(x) = 6x^4 + 2x^3 - 4mx - 16$ polinomunun $(x+1)$ ile tam bölünebilmesi için m kaç olmalıdır?

A) -2
B) -1
C) 3
D) 4
E) 5

4. $a - b = 3$ olduğuna göre, $(a-b).(a+c) + (b-a).(b+c)$ ifadesinin değeri kaçtır?

A) 36
B) 25
C) 16
D) 12
E) 9

5. $\frac{2}{3x+1} - \frac{1}{3x-1} + \frac{2}{9x^2-1}$ ifadesinin sadeleşmiş biçimi aşağıdakilerden hangisidir?

A) $\frac{4}{3x-2}$
B) $\frac{1}{3x+1} - \frac{1}{x}$
C) $\frac{2}{3x^2-2}$
D) $\frac{1}{3x+1}$
E) $\frac{3}{x^2-1}$

6. $\frac{4x+1}{3x^2+5x-2} = \frac{A}{3x-1} + \frac{B}{x+2}$ özdeşliğinde $A+B$ kaçtır?

A) -3
B) -1
C) 0
D) 1
E) 2

B

2012 3D 0101-B

7. $P(x - 2) = 3x^2 - 4x + 7$ olduğuna göre,
 $P(x)$ polinomunda sabit terim kaçtır?

A) 6
 B) 11
 C) 15
 D) 22
 E) 27

8. $P(x) = -x^4 + (a-3)x^3 - 3x^2 + b - 5$
 $Q(x) = (a - 2c)x^4 + (d - 4)x^2 - 8$

polinomları eşit olduğuna göre, $a + b + c + d$
 kaçtır?

A) -4
 B) -1
 C) 0
 D) 3
 E) 7

9. $\frac{x+1}{2} - \frac{2x+1}{3} = x - \frac{x-2}{2}$ denkleminin çözüm
 kümesi aşağıdakilerden hangisidir?

A) $\left\{-\frac{5}{4}\right\}$
 B) $\left\{-\frac{3}{5}\right\}$
 C) $\left\{\frac{1}{4}\right\}$
 D) $\left\{\frac{11}{2}\right\}$
 E) $\{5\}$

10. $5x + 3y = 8$
 $x - 6y = 17$
 denklemin sisteminin çözüm kümesi
 aşağıdakilerden hangisidir?

A) $\left\{3, -\frac{7}{3}\right\}$
 B) $\left\{\frac{5}{6}, \frac{11}{2}\right\}$
 C) $\left\{\frac{1}{4}, 3\right\}$
 D) $\{-2, 5\}$
 E) $\{-7, 4\}$

11. $x^4 + 3x^2 - 10 = 0$ denkleminin çözüm kümesi
 aşağıdakilerden hangisidir?

A) $\{-3, 4\}$
 B) $\{-\sqrt{2}, \sqrt{2}\}$
 C) $\left\{-\frac{1}{3}, \frac{1}{2}, 4\right\}$
 D) $\{-1, 1, -4\}$
 E) $\{-2, 3, 4\}$

2012 3D 0101-B

12. $\frac{12x+1}{x^2-x-12}$ rasyonel ifadesinin basit kesirlerin toplamı olarak yazılmış biçimi aşağıdakilerden hangisidir?

- A) $\frac{2}{x-5} - \frac{3}{x+3}$
 B) $\frac{6}{x+2} - \frac{2}{x-4}$
 C) $\frac{7}{x-4} + \frac{5}{x+3}$
 D) $\frac{8}{x-2} - \frac{7}{x+2}$
 E) $\frac{9}{x-3} + \frac{4}{x+5}$

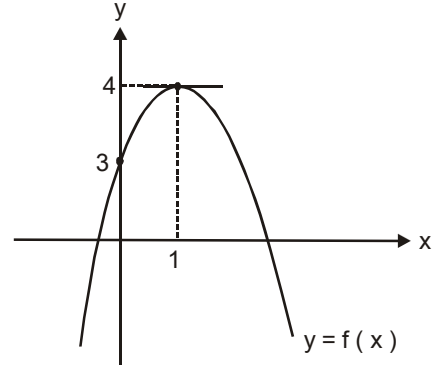
13. $(m+1)x^2 - 3mx + 5m - 2 = 0$ denkleminin kökler toplamının kökler çarpımına eşit olması için m değeri kaç olmalıdır?

- A) -4
 B) -3
 C) 0
 D) 1
 E) 2

14. $\frac{x+4}{x} = \frac{m-1}{m}$ denkleminde x aşağıdakilerden hangisidir?

- A) 0
 B) 2
 C) -4m
 D) -m
 E) 3m

15.



Şekildeki parabolün aşağıdakilerden hangisidir? denklemini

- A) $y = -2x^2 - \frac{1}{2}x + 1$
 B) $y = -x^2 + 2x + 3$
 C) $y = x^2 + 8x - 10$
 D) $y = x^2 + 3x - 4$
 E) $y = 3x^2 - x + \frac{1}{3}$

16. $f(x) = m^2x^2 - (m-1)x + \frac{1}{4}$ fonksiyonunun OX eksenine teğet olması için m aşağıdakilerden hangisi olmalıdır?

- A) -2
 B) $-\frac{1}{2}$
 C) $\frac{1}{2}$
 D) $\frac{3}{4}$
 E) 2

2012 3D 0101-B

17. Kökleri $x_1 = 5 - \sqrt{2}$ ve $x_2 = 5 + \sqrt{2}$ olan ikinci derece denklem aşağıdakilerden hangisidir?

- A) $x^2 - 5\sqrt{2}x + 25$
 B) $x^2 - 10x + 23$
 C) $x^2 + 10x - 13$
 D) $2x^2 - \sqrt{2}x - 10$
 E) $2x^2 - 5x + 13$

18. OX eksenini A (-4, 0) ve B (5, 0) noktalarında, OY eksenini (0,10) noktasında kesen parabolün denklemi aşağıdakilerden hangisidir?

- A) $y = -\frac{1}{2}x^2 + \frac{1}{2}x + 10$
 B) $y = -\frac{1}{4}x^2 + 2x - 10$
 C) $y = 2x^2 - \frac{1}{2}x + 10$
 D) $y = 3x^2 - \frac{1}{3}x - 10$
 E) $y = 4x^2 - 3x + 10$

19. $x^2 + 2(m+1)x + 1 = 0$ denkleminin pozitif iki kökünün olması için m ne olmalıdır?

- A) $m < -2$
 B) $m > 0$
 C) $m > 3$
 D) $-3 < m < 2$
 E) $-1 < m < 1$

20. $y = x^2 - 7x + 12$ fonksiyonunun gösterdiği tepe noktasının koordinatları aşağıdakilerden hangisidir?

- A) $\left(-\frac{1}{7}, \frac{3}{7}\right)$
 B) $\left(\frac{5}{6}, 2\right)$
 C) $(1, -2)$
 D) $\left(\frac{7}{2}, -\frac{1}{4}\right)$
 E) $\left(\frac{7}{2}, 6\right)$

MATEMATİK 4

B

2012 3D 0101-B

1. 45682 saniyelik açı kaç derece, kaç dakika ve kaç saniyedir?

A) $12^{\circ} 14' 34''$
B) $12^{\circ} 41' 22''$
C) $12^{\circ} 52' 15''$
D) $14^{\circ} 12' 22''$
E) $14^{\circ} 40' 14''$

2. $m(\hat{A}) = 42^{\circ} 16' 53''$ ve $m(\hat{B}) = 15^{\circ} 49' 22''$ ise $m(\hat{A}) + m(\hat{B})$ işleminin sonucu kaçtır?

A) $43^{\circ} 51' 8''$
B) $43^{\circ} 17' 8''$
C) $58^{\circ} 6' 15''$
D) $58^{\circ} 12' 21''$
E) $58^{\circ} 15' 5''$

3. Ölçülerinden biri -2740° olan açının esas ölçüsü aşağıdakilerden hangisidir?

A) 40°
B) 80°
C) 120°
D) 140°
E) 220°

4. Ölçümlerinden biri $\frac{101\pi}{8}$ radyan olan açının esas ölçüsü aşağıdakilerden hangisidir?

A) $\frac{\pi}{2}$
B) $\frac{\pi}{4}$
C) $\frac{5\pi}{8}$
D) $\frac{3\pi}{16}$
E) $\frac{5\pi}{16}$

5. 120° 'nin radyan cinsinden değeri aşağıdakilerden hangisidir?

A) $\frac{\pi}{4}$
B) $\frac{\pi}{3}$
C) $\frac{\pi}{2}$
D) $\frac{2\pi}{3}$
E) $\frac{3\pi}{4}$

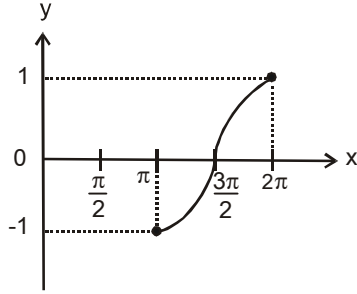
6. $\frac{2\pi}{5}$ radyanın grad cinsinden değeri aşağıdakilerden hangisidir?

A) 45
B) 60
C) 80
D) 90
E) 110

B

2012 3D 0101-B

7.



Şekildeki grafik, aşağıdaki fonksiyonlardan hangisinin $[\pi, 2\pi]$ aralığındaki grafiğidir?

- A) $f(x) = \tan x$
- B) $g(x) = \cot x$
- C) $h(x) = \sin x$
- D) $k(x) = \cos x$
- E) $m(x) = \sec x$

8. $\theta \in \left(0, \frac{\pi}{2}\right)$ ve $\sin \theta = \frac{2}{3}$ ise, $\cos \theta$ aşağıdakilerden hangisidir?

- A) $\frac{\sqrt{5}}{3}$
- B) $\frac{2}{\sqrt{5}}$
- C) $\frac{\sqrt{5}}{2}$
- D) $\frac{3}{\sqrt{5}}$
- E) $\frac{3}{2}$

9.

Bir ABC üçgeninde $a = 4\sqrt{3}$ cm ve $m(\hat{A}) = 60^\circ$ olduğuna göre, çevrel çemberin çevresi kaç π cm dir?

- A) 8
- B) 10
- C) 12
- D) 16
- E) 24

10. Yarıçapı 45 cm lik olan çemberdeki 80° lik merkez açının gördüğü yayın uzunluğu kaç birimdir?

- A) 10π
- B) 15π
- C) 20π
- D) 25π
- E) 30π

11.

$\cos(\cos^{-1} \frac{1}{\sqrt{2}})$ ifadesinin değeri

aşağıdakilerden hangisine eşittir?

- A) $-\frac{\sqrt{3}}{2}$
- B) $-\frac{1}{\sqrt{3}}$
- C) $\frac{\sqrt{3}}{2}$
- D) $\frac{1}{\sqrt{2}}$
- E) $\sqrt{3}$

2012 3D 0101-B

12. $y = \sin^4 \left(\frac{5x}{2} + 3 \right)$ fonksiyonunun periyodu kaçtır?

- A) $\frac{\pi}{5}$
 B) $\frac{\pi}{3}$
 C) $\frac{2\pi}{5}$
 D) $\frac{3\pi}{5}$
 E) π

13. $\frac{\sin 12x + \sin 4x + \sin 8x}{1 + \cos 4x + \cos 8x}$ ifadesinin sadeleşmiş biçimi aşağıdakilerden hangisidir?

$$\left(\begin{array}{l} \sin x + \sin y = 2 \sin \frac{x+y}{2} \cdot \cos \frac{x-y}{2} \\ \cos 2x = 2 \cos^2 x - 1 \\ \sin 2x = 2 \sin x \cdot \cos x \end{array} \right)$$

- A) $\sin 3x$
 B) $\cos 4x$
 C) $1 + \sin 2x$
 D) $1 + \cos 2x$
 E) $2 \sin 4x$

14. $\frac{\cos 40^\circ - \tan 30^\circ \cdot \sin 40^\circ}{\cot 45^\circ \cdot \cos 70^\circ}$ ifadesinin değeri kaçtır?

$$(\cos (A+B) = \cos A \cdot \cos B - \sin A \cdot \sin B)$$

- A) $\frac{1}{2}$
 B) $\frac{\sqrt{2}}{2}$
 C) $\frac{2}{\sqrt{3}}$
 D) $\sqrt{3}$
 E) 2

15. $\cos x = -\frac{1}{2}$ denkleminin R deki çözüm kümesi aşağıdakilerden hangisidir?

- A) $\left\{ x : x = \frac{\pi}{3} + 2k\pi \vee x = -\frac{\pi}{3} + 2k\pi, k \in \mathbf{Z} \right\}$
 B) $\left\{ x : x = \frac{2\pi}{3} + 2k\pi \vee x = -\frac{2\pi}{3} + 2k\pi, k \in \mathbf{Z} \right\}$
 C) $\left\{ -\frac{2\pi}{3}, \frac{2\pi}{3} \right\}$
 D) $\left\{ -\frac{\pi}{3}, \frac{\pi}{3} \right\}$
 E) $\left\{ -\frac{\pi}{4}, \frac{\pi}{4} \right\}$

2012 3D 0101-B

16. $\frac{6 \cdot \cos 54^\circ \cdot \cos 36^\circ}{4 \cdot \cos 18^\circ}$ işleminin sonucu kaçtır?

- A) $-\frac{1}{2}$
 B) $-\frac{1}{4}$
 C) $\frac{1}{2}$
 D) $\frac{3}{4}$
 E) 1

17. I. $\tan \theta \cdot \cos \theta = \sin \theta$
 II. $\sec \theta \cdot \cot \theta = \cos \theta$
 III. $\frac{\tan \theta}{\cot \theta} = 1$
 IV. $\frac{\sin \theta}{\tan \theta} = \cos \theta$

Yukarıdaki trigonometrik özdeşliklerden hangileri doğrudur?

- A) Yalnız I
 B) Yalnız III
 C) I ve IV
 D) II ve III
 E) I, II ve IV

18. $\tan (2\pi - \theta) = -\tan \theta$ özdeşliğinden yararlanarak; $\tan 660^\circ$ nin trigonometrik değeri aşağıdakilerden hangisidir?

- A) $-\sqrt{3}$
 B) $-\frac{\sqrt{3}}{2}$
 C) $-\sqrt{2}$
 D) $\frac{1}{2}$
 E) 1

19. $\sin 2a = 2 \sin a \cdot \cos a$
 $\cos 2a = 1 - 2 \sin^2 a$

olduğuna göre; $\frac{\cos 2a - \sin a - 1}{\sin 2a + \cos a}$ ifadesinin sadeleşmiş biçimi aşağıdakilerden hangisidir?

- A) $\sin a$
 B) $-\tan a$
 C) $-\sin a + \cos a$
 D) $\cot a$
 E) $\cos^2 a$

20. $8 \cos x - 6 \sin x = 0$ ise $\sin 2x$ kaçtır?

$$(\sin 2x = 2 \sin x \cdot \cos x)$$

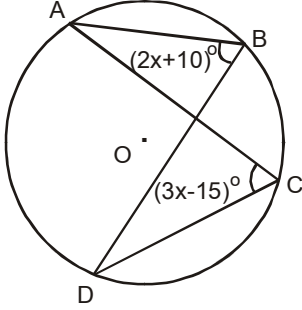
- A) $\frac{3}{8}$
 B) $\frac{16}{25}$
 C) $\frac{24}{25}$
 D) 2
 E) $\frac{25}{6}$

GEOMETRİ 2

B

2012 3D 0101-B

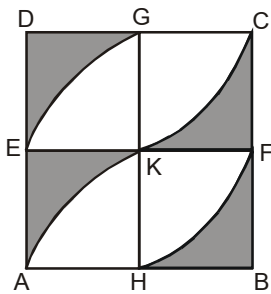
1.



Yukarıdaki O merkezli çemberde $m(\widehat{DCA}) = (3x - 15)^\circ$ ve $m(\widehat{ABD}) = (2x + 10)^\circ$ ise, x kaç derecedir?

- A) 15
- B) 20
- C) 25
- D) 30
- E) 35

2.

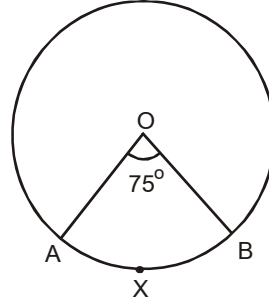


Yukarıda kenar uzunluğu 12 cm olan ABCD karesinin içine dörtte bir daire dilimleri çizilmiştir. $|AH| = |HB| = |BF|$ dir.

Buna göre, taralı bölgelerin alanları toplamı kaç cm^2 dir?

- A) $36 - 9\pi$
- B) $72 - 18\pi$
- C) $108 - 27\pi$
- D) $136 - 32\pi$
- E) $144 - 36\pi$

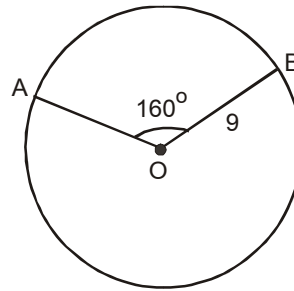
3.



Yukarıdaki O merkezli 16 cm yarıçaplı çemberde $m(\widehat{AOB}) = 75^\circ$ ise, $|\widehat{AXB}|$ uzunluğu kaç cm dir?

- A) $\frac{23\pi}{3}$
- B) $\frac{20\pi}{3}$
- C) $\frac{24\pi}{5}$
- D) $\frac{25\pi}{6}$
- E) $\frac{14\pi}{5}$

4.



Yukarıdaki O merkezli, 9 cm yarıçaplı daireden elde edilen daire diliminde

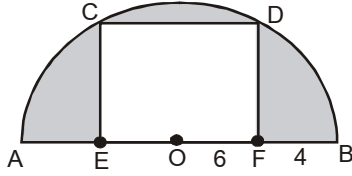
$m(\widehat{AOB}) = 160^\circ$ ise, $A(\widehat{AOB})$ kaç cm^2 dir?

- A) 18π
- B) 24π
- C) 32π
- D) 36π
- E) 45π

B

2012 3D 0101-B

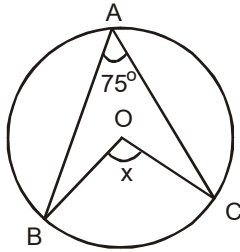
5.



Yukarıdaki O merkezli yarımların içine EFDC dikdörtgeni çizilmiştir. $|AE| = |FB|$, $|OF| = 6$ cm, $|FB| = 4$ cm ise, taralı bölgelerin alanları toplamı kaç cm^2 dir?

- A) $100\pi - 96$
- B) $100\pi - 80$
- C) $50\pi - 96$
- D) $50\pi - 36$
- E) $25\pi - 36$

6.



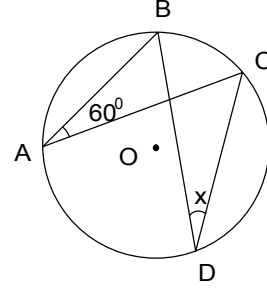
Yukarıdaki O merkezli çemberde $m(\widehat{BAC}) = 75^\circ$ ise, $m(\widehat{BOC}) = x$ açısı kaç derecedir?

- A) 100
- B) 105
- C) 120
- D) 140
- E) 150

7. Yarıçapı 6 br olan küre biçimindeki bir deniz topunun içinde kaç πbr^3 hava vardır?

- A) 36
- B) 72
- C) 144
- D) 288
- E) 576

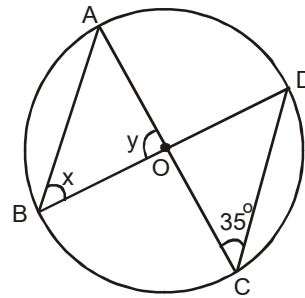
8.



Yukarıdaki O merkezli çemberde $m(\widehat{BAC}) = 60^\circ$ ise, $m(\widehat{CDB}) = x$ kaç derecedir?

- A) 30
- B) 45
- C) 60
- D) 90
- E) 120

9.

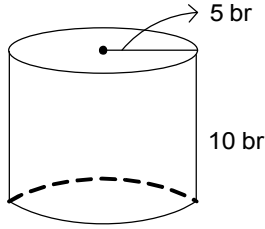


Yukarıdaki O merkezli çemberde $m(\widehat{ACD}) = 35^\circ$ ise, $x + y$ kaç derecedir?

- A) 120
- B) 130
- C) 135
- D) 140
- E) 145

2012 3D 0101-B

10.



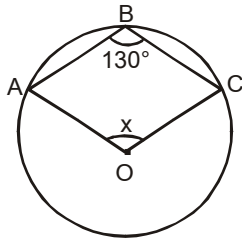
Yukarıdaki dik dairesel silindirin yarıçapı 5 br, yüksekliği 10 br olduğuna göre, silindirin yüzey alanı kaç πbr^2 dir?

- A) 50
- B) 75
- C) 100
- D) 150
- E) 200

11. Hacmi $36\pi br^3$ olan bir kürenin yarıçapı kaç birimdir?

- A) 3
- B) 5
- C) 6
- D) 8
- E) 9

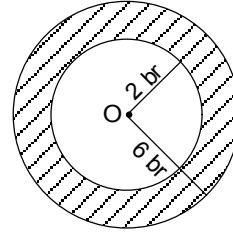
12.



Yukarıdaki O merkezli çemberde $m(\widehat{ABC}) = 130^\circ$ ise, x kaç derecedir?

- A) 95
- B) 100
- C) 105
- D) 110
- E) 115

13.



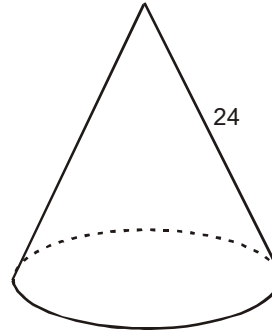
Yukarıda O merkezli ve yarıçapları sırasıyla 2 br ve 6 br olan dairelerin arasında kalan alan kaç πbr^2 dir?

- A) 2
- B) 8
- C) 16
- D) 32
- E) 36

14. Yüksekliği 15 cm yarıçapı 5 cm olan dik dairesel koninin hacmi kaç πcm^3 tür?

- A) 145
- B) 140
- C) 135
- D) 130
- E) 125

15.



Yukarıdaki dik dairesel koni biçimindeki karton şapkanın tabanının yarıçapı 4 cm, ana doğru parçasının uzunluğu 24 cm dir. Şapkayı yapmak için kaç cm^2 karton gerekir?

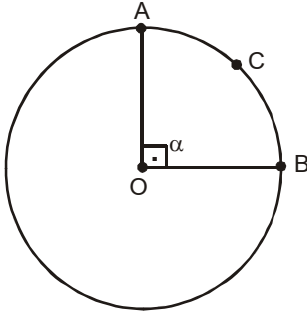
- A) 86π
- B) 96π
- C) 112π
- D) 116π
- E) 126π

16. Yarıçapı 12 cm olan bir kürenin yüzey alanı kaç cm^2 dir?

- A) 524π
- B) 548π
- C) 552π
- D) 576π
- E) 582π

2012 3D 0101-B

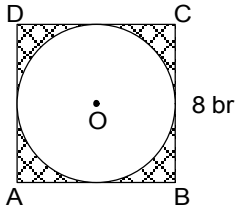
17.



Yukarıdaki O merkezli çemberde $\alpha = 90^\circ$ ve $\widehat{ACB} = 4\pi$ cm ise, bu çemberin yarıçapı kaç cm dir?

- A) 8
- B) 6
- C) 5
- D) 4
- E) 3

18.



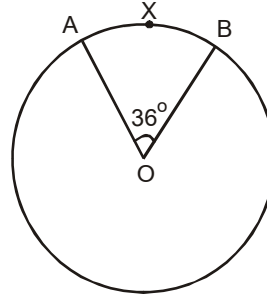
Yukarıdaki ABCD karesinin bir kenar uzunluğu 8 br'dir. Bu karenin içine, kenarlara teğet olacak biçimde O merkezli bir daire çizilmiştir. Buna göre, şekildeki taralı bölgenin alanı kaç br^2 dir?

- A) $8-2\pi$
- B) $16-2\pi$
- C) $16-4\pi$
- D) $64-8\pi$
- E) $64-16\pi$

19. Yüksekliği 15 cm olan ve hacmi 960π cm^3 olan dik dairesel silindirin taban yarıçapı kaç cm dir?

- A) 5
- B) 6
- C) 8
- D) 9
- E) 10

20.



Yukarıda O merkezli dairede $m(\widehat{AOB}) = 36^\circ$ ve $\widehat{AXB} = 2\pi$ cm ise, bu dairenin alanı kaç cm^2 dir?

- A) 36π
- B) 49π
- C) 64π
- D) 100π
- E) 144π

ALMANCA 1

B

2012 3D 0101-B

Bu testin cevaplarını, cevap anahtarında YABANCI DİL 1 sütununa işaretleyiniz.

1. Die Sekretärin spricht die Termine ab.

Wie lautet der obige Satz im Perfekt?

Verilen cümlelerin di' li geçmiş zaman şekli aşağıdakilerden hangisidir?

- A) Die Sekretärin hat die Termine abgesprochen.
- B) Die Sekretärin soll die Termine absprechen.
- C) Die Sekretärin wollte die Termine absprechen.
- D) Die Sekretärin hatte die Termine abgesprochen.
- E) Die Sekretärin sprach die Termine ab.

2. Dreizehn sechs ist sieben.

Welches Wort paßt in die obige Lücke?

Cümlede boş bırakılan yeri aşağıdakilerden hangisi doğru şekilde tamamlar?

- A) plus
- B) durch
- C) macht
- D) mal
- E) minus

3. A: Bist du müde? ich dir helfen?
B: Ja, danke. Du kannst die Küche aufräumen.

Welches ergänzt die Lücke im obigen Dialog?

Verilen karşılıklı konuşmada boş bırakılan yeri aşağıdakilerden hangisi tamamlar?

- A) Kann
- B) Solltest
- C) Möchten
- D) Will
- E) Sollen

4. Dudu: Hallo Tina! Ich habe Trinken wir etwas?

Tina: Ja, das ist eine gute Idee.

Welches ergänzt die Lücke im obigen Dialog?

Verilen karşılıklı konuşmada boş bırakılan yeri aşağıdakilerden hangisi tamamlar?

- A) Hausaufgaben
- B) Arbeit
- C) Schmerzen
- D) Durst
- E) Hunger

5. Es ist kalt draußen,

Welches ergänzt die Lücke im obigen Satz?

Verilen cümleyi aşağıdakilerden hangisi tamamlar?

- A) du kannst früh ins Bett gehen.
- B) ich mach das Fenster zu.
- C) er will seine Sachen einpacken.
- D) ihm die Zeitung bringen.
- E) gleich darfst du etwas essen.

6. Wir gehen ins Theater. Kommst du mit?

Wie kann man die obigen Sätze mit "wollen" verbinden?

Verilen cümlelerin "wollen" ile birleştirilmiş hali aşağıdakilerden hangisidir?

- A) Er war im Theater, wollt ihr auch gehen?
- B) Er geht ins Theater, will sie auch kommen?
- C) Wollen Sie kommen, wir gehen ins Theater?
- D) Wir gehen ins Theater, willst du mitkommen?
- E) Wir gehen heute ins Theater, wolltet ihr auch gehen?

B

2012 3D 0101-B

7. Mein Sohn kommt erst 18.00 Uhr nach Hause.

Welches Wort paßt in die obige Lücke?

Cümlede boş bırakılan yeri aşağıdakilerden hangisi doğru şekilde tamamlar?

- A) von
- B) seit
- C) gegen
- D) hindurch
- E) am

8. Die Mädchen finden meine Haare sehr merkwürdig.

Wie lautet der obige Satz im Präteritum?

Verilen cümlelerin geçmiş zaman şekli aşağıdakilerden hangisidir?

- A) Die Mädchen fanden meine Haare sehr merkwürdig.
- B) Die Mädchen findeten meine Haare sehr merkwürdig.
- C) Die Mädchen haben meine Haare sehr merkwürdig gefunden.
- D) Die Mädchen sollten meine Haare sehr merkwürdig finden.
- E) Die Mädchen können meine Haare sehr merkwürdig finden.

9. Die Wohnung ist groß, aber das Haus ist

Welches Wort paßt in die obige Lücke?

Cümlede boş bırakılan yeri aşağıdakilerden hangisi doğru şekilde tamamlar?

- A) größten
- B) größest
- C) viel groß
- D) größer
- E) am größer

10. Das ist Tante und hier ist Mann. Sie haben drei Kinder.

Welche Wörter passen in die obigen Lücken?

Cümlede boş bırakılan yerleri aşağıdakilerden hangileri doğru şekilde tamamlar?

- A) unsere / seine
- B) meine / ihr
- C) sein / dessen
- D) deine / sie
- E) ihrem / ihre

11. Sie nicht vor der Garage!

Welches Wort paßt in die obige Lücke?

Cümlede boş bırakılan yeri aşağıdakilerden hangisi doğru şekilde tamamlar?

- A) Gehen
- B) Parken
- C) Setzen
- D) Legen
- E) Hängen

12. Der Arzt untersucht den Kranken.

Wie lautet der obige Satz in der Passivform?

Verilen cümlelerin passif şekli aşağıdakilerden hangisidir?

- A) Der Kranke ist untersucht worden.
- B) Der Arzt hat den Kranken zu untersuchen.
- C) Der Arzt hätte den Kranken untersucht.
- D) Der Kranke wird von dem Arzt untersucht.
- E) Der Kranke könnte vom Arzt untersucht werden.

13. -Was ist dein?
-Ich schwimme sehr gern.

Welches ergänzt die Lücke im obigen Dialog?

Verilen karşılıklı konuşmada boş bırakılan yeri aşağıdakilerden hangisi tamamlar?

- A) Alter
- B) Hobby
- C) Wohnort
- D) Freizeit
- E) Sport

2012 3D 0101-B

14. Vor der Tür uns..... Haus..... steht ein fremder Mann.

Welche Endungen passen in die obigen Lücken?

Cümlede boş bırakılan yerlere aşağıdaki soneklerden hangisi gelmelidir?

- A) -es / -es
- B) -erem / -en
- C) -eres / -es
- D) -en / -en
- E) -erer / -er

15. Auf den Tisch hier, bitte!

Welche Frage paßt zur obigen Antwort?

Verilen cevabı gerektirecek soru aşağıdakilerden hangisidir?

- A) Wieviel kostet die Reparatur?
- B) Wie teuer ist der Computer?
- C) Wohin soll ich den Computer stellen?
- D) Wo ist der Tisch?
- E) Woher haben Sie den Computer gekauft?

16. Meine Freundin ist September nicht mehr in Deutschland.

Welches Wort paßt in die obige Lücke?

Cümlede boş bırakılan yeri aşağıdakilerden hangisi doğru şekilde tamamlar?

- A) für
- B) zu
- C) bei
- D) hindurch
- E) ab

17. Das Wetter ist kalt wie gestern, gestern war es

Welche Wörter passen in die obigen Lücken?

Cümlede boş bırakılan yerleri aşağıdakilerden hangileri doğru şekilde tamamlar?

- A) nicht so / kälter
- B) so / besser
- C) sehr / kalt
- D) genau / warm
- E) wie / kälter

18. Sie fragt, ich mir die Hände gewaschen habe.

Welches Wort paßt in die obige Lücke?

Cümlede boş bırakılan yeri aşağıdakilerden hangisi doğru şekilde tamamlar?

- A) damit
- B) denn
- C) weil
- D) dass
- E) ob

19. Hans: Vati, hast du meine Schlüssel gesehen?
Vater: Nein, ist er nicht

Jackentasche?

Hans: Nein, da ist er nicht.

Vater: Ist er vielleicht Tisch?

Hans: Ach ja, dort ist er!

Welches ergänzt die Lücke im obigen Dialog?

Verilen karşılıklı konuşmada boş bırakılan yeri aşağıdakilerden hangisi tamamlar?

- A) über dem / hinter dem
- B) aus dem / in dem
- C) vor dem / neben dem
- D) auf dem / unter dem
- E) in der / auf dem

20. Ich muß meinen Regenschirm nehmen, es draußen regnet.

Welches Wort paßt in die obige Lücke?

Cümlede boş bırakılan yeri aşağıdakilerden hangisi doğru şekilde tamamlar?

- A) wann
- B) wo
- C) wenn
- D) ob
- E) daß

FRANSIZCA 1

B

2012 3D 0101-B

Bu testin cevaplarını, cevap anahtarında
YABANCI DİL 1 sütununa işaretleyiniz.

1. Tu vu le dernier film de Ron Howard?

Choisissez le mot qui convient.

Cümledeki boşluğu aşağıdakilerden hangisi
doğru şekilde tamamlar?

- A) as
- B) a
- C) est
- D) es
- E) vas

2. Si vous m'écoutez attentivement, vous
bien.

Choisissez le mot qui convient.

Cümledeki boşluğu aşağıdakilerden hangisi
doğru şekilde tamamlar?

- A) comprendrai
- B) comprendront
- C) avez compris
- D) comprenons
- E) comprendrez

3. Elles sont à dix heures.

Choisissez le mot qui convient.

Cümledeki boşluğu aşağıdakilerden hangisi
doğru şekilde tamamlar?

- A) arrivées
- B) arrivés
- C) arrivée
- D) arrivé
- E) arrivent

4. Nous avons une voiture.

Choisissez le mot qui convient.

Cümledeki boşluğu aşağıdakilerden hangisi
doğru şekilde tamamlar?

- A) était
- B) avez
- C) mon
- D) eu
- E) ont

5. - Vous connaissez ce jeune homme ?
- Non, je ne connais pas.

Choisissez le mot qui convient.

Yukarıdaki konuşmada boş bırakılan yeri
aşağıdakilerden hangisi doğru şekilde
tamamlar?

- A) lui
- B) le
- C) la
- D) me
- E) les

6. -?
- Non, j'ai acheté de la farine.

Choisissez la question qui convient.

Yukarıdaki konuşmada cevabı gerektiren
soru aşağıdakilerden hangisidir?

- A) Qu'est-ce qu'elle a acheté
- B) Quand est-ce que tu as acheté ça
- C) Avez-vous aimé cette boisson
- D) As-tu acheté du beurre
- E) Combien as-tu payé

B

2012 3D 0101-B

7. I. Je me réveille à 7 heures du matin.
II. Je prends mon petit déjeuner.
III. Je me couche tard.
IV. Je m'habille.
V. Je sors de la maison à 8 heures.

Choisissez la phrase qui ne convient pas à l'ensemble.

Sırasıyla okunduğunda anlam bütünlüğünü bozan cümle aşağıdakilerden hangisidir?

- A) I
B) II
C) III
D) IV
E) V

8. Il un frère et une soeur.

Choisissez le mot qui convient.

Cümledeki boşluğu aşağıdakilerden hangisi doğru şekilde tamamlar?

- A) a
B) est
C) ont
D) son
E) sa

9. Je ne fume plus.

Choisissez la traduction qui convient.

Yukarıdaki cümlelerin Türkçe karşılığı aşağıdakilerden hangisidir?

- A) Sigara içmeyin.
B) Henüz sigarayı bırakmadım.
C) Hiç sigara içmedim.
D) Artık sigara içmiyorum.
E) Sigarayı bırakmak istiyorum.

10. Bu müzeyi daha önce ziyaret ettiniz mi?

Choisissez la traduction qui convient.

Yukarıdaki cümlelerin Fransızca karşılığı aşağıdakilerden hangisidir?

- A) Vous aimez les musées?
B) Vous avez déjà visité ce musée?
C) Vous travaillez dans ce musée?
D) Vous n'avez pas encore visité ce musée?
E) Vous aimez visiter les musées?

11. Ils ont leurs devoirs.

Choisissez le mot qui convient.

Cümledeki boşluğu aşağıdakilerden hangisi doğru şekilde tamamlar?

- A) finis
B) fini
C) finies
D) finir
E) finie

12. Nous n'attendons personne.

Choisissez l'antonyme du mot souligné.

Yukarıdaki cümlede altı çizili sözcüğün zıt anlamlısı aşağıdakilerden hangisidir?

- A) pas encore
B) quelque chose
C) jamais
D) quelqu'un
E) aucun

13. Je suis passé par votre ville.

Choisissez la traduction qui convient.

Yukarıdaki cümlelerin Türkçe karşılığı aşağıdakilerden hangisidir?

- A) Şehrinize geleceğim.
B) Şehrinizden geçtim.
C) Sizin şehre de uğrayacağım.
D) Şehriniz çok güzel.
E) Sizi şehirde bekliyorum.

2012 3D 0101-B

14. Elle des lunettes de soleil.

Choisissez le mot qui convient.

Cümledeki boşluğu aşağıdakilerden hangisi doğru şekilde tamamlar?

- A) pèse
- B) est
- C) porte
- D) as
- E) voyage

15. Elles les cheveux longs.

Choisissez le mot qui convient.

Cümledeki boşluğu aşağıdakilerden hangisi doğru şekilde tamamlar?

- A) sommes
- B) sont
- C) ont
- D) portez
- E) avons

16. - est votre veste?
- Elle est en laine.

Choisissez le mot qui convient.

Yukarıdaki konuşmada boş bırakılan yeri aşağıdakilerden hangisi doğru şekilde tamamlar?

- A) De quelle couleur
- B) Combien
- C) À quoi sert
- D) Quel
- E) En quoi

17. - Vous avez quelque chose à dire?
- Non, je n'ai à dire.

Choisissez le mot qui convient.

Yukarıdaki konuşmada boş bırakılan yeri aşağıdakilerden hangisi doğru şekilde tamamlar?

- A) rien
- B) toujours
- C) jamais
- D) ni
- E) déjà

18. les enfants aiment jouer aux jeux en ligne.

Choisissez le mot qui convient.

Cümledeki boşluğu aşağıdakilerden hangisi doğru şekilde tamamlar?

- A) Toutes
- B) Si
- C) Tout
- D) On
- E) Tous

19. Quand levez-vous?

Choisissez le mot qui convient.

Cümledeki boşluğu aşağıdakilerden hangisi doğru şekilde tamamlar?

- A) me
- B) se
- C) nous
- D) te
- E) vous

20. - Tu t'es lavé?
- Non, je ne suis pas encore lavé.

Choisissez le mot qui convient.

Yukarıdaki konuşmada boş bırakılan yeri aşağıdakilerden hangisi doğru şekilde tamamlar?

- A) se
- B) elle
- C) me
- D) te
- E) lui

2012 3D 0101-B

**Bu testin cevaplarını, cevap anahtarında
YABANCI DİL 1 sütununa işaretleyiniz.**

1. Peter is 120 cm tall. Mike is 140 cm tall. Peter is than Mike.

Which of the following completes the sentence above?

Aşağıdakilerden hangisi yukarıdaki cümleyi doğru olarak tamamlar?

- A) shorter
- B) taller
- C) older
- D) cleverer
- E) bigger

2. John French while his wife was washing the dishes.

Which of the following completes the sentence above?

Aşağıdakilerden hangisi yukarıdaki cümleyi doğru olarak tamamlar?

- A) should study
- B) will study
- C) is studying
- D) have studied
- E) was studying

3. The baby hasn't his milk yet.

Which of the following completes the sentence above?

Aşağıdakilerden hangisi yukarıdaki cümleyi doğru olarak tamamlar?

- A) drunk
- B) drink
- C) drank
- D) drinks
- E) drinking

4. Brenda : we go to a picnic today?
Jack : Yes, that's a good idea.

Which of the following completes the dialogue above?

Aşağıdakilerden hangisi yukarıdaki konuşmayı doğru olarak tamamlar?

- A) Would
- B) Did
- C) Does
- D) Shall
- E) Has

5. He is on the phone now.

Which of the following completes the sentence above?

Aşağıdakilerden hangisi yukarıdaki cümleyi doğru olarak tamamlar?

- A) talk
- B) talking
- C) talked
- D) talks
- E) has talked

6. This is the expensive hotel I have ever stayed in.

Which of the following completes the sentence above?

Aşağıdakilerden hangisi yukarıdaki cümleyi doğru olarak tamamlar?

- A) more
- B) worst
- C) many
- D) most
- E) much

2012 3D 0101-B

7. I am going to a good breakfast at 7:30.

Which of the following completes the sentence above?

Aşağıdakilerden hangisi yukarıdaki cümleyi doğru olarak tamamlar ?

- A) will have
- B) had
- C) have
- D) has
- E) having

8. Jack: How tea is there in the box?
Bob: There is

Which of the following completes the dialogue above?

Aşağıdakilerden hangisi yukarıdaki konuşmayı doğru olarak tamamlar ?

- A) much / a little
- B) many / any
- C) more / little
- D) much / few
- E) many / a few

9. What time does the film?

Which of the following completes the sentence above?

Aşağıdakilerden hangisi yukarıdaki cümleyi doğru olarak tamamlar ?

- A) started
- B) have started
- C) starting
- D) start
- E) starts

10. The coffee is hot for me to drink.

Which of the following completes the sentence above?

Aşağıdakilerden hangisi yukarıdaki cümleyi doğru olarak tamamlar ?

- A) either
- B) too
- C) some
- D) many
- E) much

11. She probably go to the park tomorrow.

Which of the following completes the sentence above?

Aşağıdakilerden hangisi yukarıdaki cümleyi doğru olarak tamamlar ?

- A) had
- B) will
- C) is
- D) are
- E) have

12. This is my pencil. Where is Nick's?

Which of the following can be used for the underlined word?

Aşağıdakilerden hangisi altı çizili sözcüğün yerine kullanılabilir?

- A) theirs
- B) mine
- C) her
- D) his
- E) yours

13. Everbody was when the teacher came.

Which of the following completes the sentence above?

Aşağıdakilerden hangisi yukarıdaki cümleyi doğru olarak tamamlar ?

- A) shout
- B) shouting
- C) shouts
- D) shouted
- E) have shouted

14. Saat onbire çeyrek var.

Which of the following is the English translation of the sentence above?

Aşağıdakilerden hangisi yukarıdaki cümlelerin İngilizce karşılığıdır ?

- A) It's half past eleven.
- B) It's twenty to eleven.
- C) It's quarter to eleven.
- D) It's eleven o'clock.
- E) It's quarter past eleven.

2012 3D 0101-B

15. I haven't been there years.

Which of the following completes the sentence above?

Aşağıdakilerden hangisi yukarıdaki cümleyi doğru olarak tamamlar?

- A) ago
- B) since
- C) for
- D) before
- E) after

16. Özkan : I close the window?
Teacher : Yes, of course.

Which of the following completes the sentence above?

Aşağıdakilerden hangisi yukarıdaki cümleyi doğru olarak tamamlar?

- A) Have
- B) Does
- C) Did
- D) Has
- E) May

17. Mr. Gül driving a car for a year.

Which of the following completes the sentence above?

Aşağıdakilerden hangisi yukarıdaki cümleyi doğru olarak tamamlar?

- A) has been
- B) have
- C) has
- D) had
- E) have been

18. George: You haven't been to Spain yet, you?
Jane: No, I haven't.

Which of the following completes the dialogue above?

Aşağıdakilerden hangisi yukarıdaki konuşmayı doğru olarak tamamlar?

- A) had
- B) do
- C) will
- D) did
- E) have

19. The children have been TV since 10 o'clock.

Which of the following completes the sentence above?

Aşağıdakilerden hangisi yukarıdaki cümleyi doğru olarak tamamlar?

- A) watched
- B) watch
- C) will watch
- D) is watching
- E) watching

20. George hasn't seen his daughter December.

Which of the following completes the sentence above?

Aşağıdakilerden hangisi yukarıdaki cümleyi doğru olarak tamamlar?

- A) for
- B) many
- C) since
- D) ago
- E) from

2012 3D 0101-B

1. I. Çekirdek ya da modern aile olarak da adlandırılır.
II. Anne, baba ve evlenmemiş çocuklardan oluşur.
III. Sanayi toplumlarında, özellikle kentlerde görülür.
IV. Temel öğeleri eşler olup, çocuklar evlenince aileden ayrılır.

Yukarıda verilenlerle anlatılmak istenen aile türü aşağıdakilerden hangisidir?

- A) Anaerkil aile
 - B) Küçük aile
 - C) Ataerkil aile
 - D) Büyük aile
 - E) Geniş aile
2. I. Eşitlik
II. Özgürlük
III. Adalet

Yukarıdakilerden hangileri demokratik yönetimin en önemli ölçütlerindendir?

- A) Yalnız I
 - B) Yalnız II
 - C) I ve II
 - D) II ve III
 - E) I, II ve III
3. Aşağıdakilerden hangisi Atatürkçü düşünce sistemini oluşturan ilkelerden biri değildir?
- A) Halkçılık
 - B) Devletçilik
 - C) Çağdaşçılık
 - D) Cumhuriyetçilik
 - E) Milliyetçilik
4. Doğal zenginliklerden yoksun kalmak, toplumsal değişmeye neden olmaktadır.

Buna göre, bir toplumda ormanların yok edilmesi, teknolojinin doğal dengiyi bozacak biçimde kullanılması, aşağıdakilerden hangisine yol açmaz?

- A) Nüfusun artmasına
 - B) Çevre kirliliğine
 - C) Doğal afetlere
 - D) Ekonomik etkinliklerin azalmasına
 - E) İç göçlere
5. Toplamlar "bedevî" toplumdun "hadarî" topluma doğru gelişme gösterir diyen düşünür aşağıdakilerden hangisidir?
- A) Farabi
 - B) İbn-i Sina
 - C) İbn-i Haldun
 - D) Ömer Hayam
 - E) Ahmet Yesevi

6. Aşağıdakilerden hangisi "Medeni Kanun"a göre boşanma nedenlerinden biri değildir?

- A) Geçimsizlik
- B) Zina
- C) Cana kast
- D) Din değıştirme
- E) Akıl hastalığı

7. İş bölümü "işlerin farklılaşmasına bağlı olarak farklı işlerin farklı kişilerce yapılmasıdır."

Buna göre, aşağıdakilerden hangisi iş bölümünün sağladığı yararlardan biri değildir?

- A) Toplum üyeleri arasında işbirliğini geliştirmesi
- B) Yabancılaşmaya neden olması
- C) Kişiyi, yetenekli olduğu alanda çalışma olanağı sağlaması
- D) Bireylerin başarı ve verimlilik düzeyini arttırması
- E) Emek ve zamandan tasarruf sağlaması

8. I. Toplumsallaştırma işlevi
II. Psikolojik işlev
III. Ekonomik işlev
IV. Cinsel davranışların düzenlenmesi işlevi

Yukarıdakilerden hangileri ailenin temel işlevlerindendir?

- A) I ve II
- B) II ve III
- C) I, II ve III
- D) II, III ve IV
- E) I, II, III ve IV

9. Kültürün devamlılığını ve yaygınlığını sağlamada en önemli araç aşağıdakilerden hangisidir?

- A) Törenler
- B) Görsel sanatlar
- C) Yazı
- D) Müzik
- E) Ağltlar

10. Aşağıdakilerden hangisi örgütlenmiş yapı olarak devletin temel işlevleri arasında yer almaz?

- A) Bireylerin hak ve özgürlüklerinden kaynaklanan dinsel inançların egemenliğini sağlamak
- B) Bireylerin hak ve özgürlüklerini güvence altına almak
- C) Kanunlar yapmak ve uygulamak
- D) Vatandaşların ekonomik, sosyal ve kültürel ihtiyaçlarını gidemek
- E) İç ve dış tehlikelere karşı ülkenin bağımsızlığını korumak

2012 3D 0101-B

11. Toplumsal hayatın her alanında büyümeyi ve genişlemeyi anlatmak için kullanılan kelime aşağıdakilerden hangisidir?

- A) Rasyonelleşme
- B) Örgütlenme
- C) İlerleme
- D) Gelişme
- E) Çağdaşlaşma

12. Karma ekonomi düzeni ile ilgili aşağıdaki ifadelerden hangisi doğrudur?

- A) Sosyal ben duygusu egemendir.
- B) Kapitalist sistemin zaman içinde değişmesi ile ortaya çıkmıştır.
- C) Serbest rekabet ve şahsi teşebbüs bu sistemin temelinde yer alır.
- D) Sınırsız kazanç fikri söz konusudur.
- E) Üretim vasıtalarının tamamı devletin elindedir.

13. Siyasal yönetim şekilleri ile ilgili aşağıdaki tanımlamalardan hangisi yanlıştır?

- A) Gücünü halkın egemenliğinden alan yönetim şekline demokrasi denir.
- B) İktidarın "soyluların" ya da "din adamlarının" elinde bulunduğu yönetim şekline aristokrasi denir.
- C) Dinsel kurallara göre düzenlenen yönetim şekline teokrazi denir.
- D) Egemenliğin kaynağını "mutlak güçten" yani "Tanrı"dan alan yönetim şekline oligarşi denir.
- E) İktidarın tek bir kişinin elinde olduğu yönetim şekline monarşi denir.

- 14. I. Fiziki çevre
- II. Bilim ve teknoloji
- III. Kültür
- IV. Kitle iletişim araçları

Yukarıdakilerden hangileri toplumsal değişmeyi etkileyen faktörlerdendir?

- A) I ve II
- B) II ve III
- C) II ve IV
- D) I, II ve III
- E) I, II, III ve IV

15. İlkel toplumdan tarım toplumuna, tarım toplumundan sanayi toplumuna geçiş aşağıdakilerden hangisi ile ifade edilir?

- A) Evrim
- B) Devrim
- C) Değişme
- D) Genişleme
- E) Örgütlenme

16. Temel özellikleri kâr elde etme, piyasa ekonomisi ve özel mülkiyet olan ekonomik düzen aşağıdakilerden hangisidir?

- A) Sosyalizm
- B) Tekelci piyasa ekonomisi
- C) Karma ekonomi
- D) Kapitalizm
- E) Komünizm

- 17. I. Kişinin, kendi kültürünü temel alarak, diğer kültürleri kendi kültürü açısından değerlendirmesidir.
- II. Aşırıya kaçılması durumunda bu görüş karşılıklı anlayış ve hoşgörüyü kabul etmez.
- III. Irkçılık bu anlayışa bir örnektir.

Yukarıda verilenlerle anlatılmak istenen kavram aşağıdakilerden hangisidir?

- A) Kültürel merkezîyetçilik
- B) Kültürel yayılma
- C) Kültürel yozlaşma
- D) Kültürel değişme
- E) Kültürel etkileşim

18. Sosyolojide grup dışından evliliğe ne ad verilmektedir?

- A) Endogami
- B) Egzogami
- C) Poliandri
- D) Poligami
- E) Polijini

19. Türk kadını milletvekili olma hakkını hangi yılda elde etmiştir?

- A) 1908
- B) 1923
- C) 1924
- D) 1926
- E) 1934

20. Misyonerler, tüccarlar, kaşifler, göçmenler aracılığıyla gerçekleşen kültürel yayılma aşağıdakilerden hangisine neden olabilir?

- A) Kültürel aktarmaya
- B) Kültürel değişmeye
- C) Kültürel yozlaşmaya
- D) Kültürleşmeye
- E) Kültürleşmeye

TURİZM 1

B

2012 3D 0101-B

1. Aşağıdakilerden hangisi seyahat ettiği halde turist olarak kabul edilemez?

- A) Bir sınır bölgesinde ikamet edenler ve başka bir ülkede yaşayıp komşu ülkeye çalışmak için gelenler
- B) Ticari nedenlerle seyahat edenler
- C) Bir başka ülkede kamu amaçlı görevlendirilen kimseler
- D) Ülkeye iş sözleşmesi ile gelip, bir iş yapmak veya bir işte çalışmak isteyenler
- E) Ülkeye yerleşmek, devamlı kalmak için gelenler

2. Turizm kavramının kökeni Latince'de; "dönmek, hareket etmek, dolaşmak" anlamına gelen hangi kelimeden türetilmiştir?

- A) Transit
- B) Tomus
- C) Snobizm
- D) Tur
- E) Tour

3. I. Ulaşım araçlarını kullanmak
II. Eğlence, yeme, içme yerlerine gitmek
III. Tarihi, turistik yerleri gezmek
IV. Hediyelik eşya almak

Yukarıdakilerden hangileri turistin görmek istediği yerlere giderken para harcadığı faaliyetlerdir ve turizmin ekonomik yönünü ortaya koymaktadır?

- A) II ve IV
- B) III ve IV
- C) I, II ve III
- D) II, III ve IV
- E) I, II, III ve IV

4. Aşağıdakilerden hangisi II.Dünya Savaşı'nın turizme olumsuz etkilerinden biri değildir?

- A) Sosyal refahı azaltması
- B) Seyahat etmenin güvenilirliğini azaltması
- C) Ulaştırma araçlarının teknolojisinin ilerlemesi
- D) Seyahat özgürlüğünü kısıtlaması
- E) Ekonomik özgürlüğü azaltması

5. I. Turizm, bir hizmet sektörüdür.
II. Turizm, boş zamanları değerlendirme faaliyetidir.
III. Turizm faaliyetinin temelinde insan vardır.
IV. Turizm, yol, köprü gibi alt yapı, tatil köyü, yat limanı gibi üst yapı yatırımlarını gerektirir.

Yukarıdakilerden hangileri turizmin başlıca özellikleri arasında yer alır?

- A) I ve II
- B) I ve III
- C) I, II ve III
- D) I, III ve IV
- E) I, II, III ve IV

6. I. Romatizma
II. Astım, bronşit
III. Bel ağrısı

Volkanik deprem kuşağı üzerinde olan ülkemizin yukarıdaki rahatsızlıklardan hangilerine şifa sağlayan kaynaklar turistlerin ilgisini çekmektedir?

- A) Yalnız I
- B) Yalnız II
- C) I ve II
- D) II ve III
- E) I, II ve III

7. Turizmin önemine ilişkin aşağıdaki ifadelerden hangisi yanlıştır?

- A) Turizm, ülkelerin kalkınmasını olumlu yönde etkilemektedir.
- B) Yurt dışında iş imkanları yaratmaktadır.
- C) Türkiye'nin dış ticaret açığını gidermede önemli bir rol oynamaktadır.
- D) Turistik seyahatler sonucunda ülkeler döviz geliri elde etmektedir.
- E) Turizm ülkelerarası ticari düzenleyici bir etkidir.

B

2012 3D 0101-B

8. Turizme katılan kişilerin kendi ülke sınırları içinde doğal ve kültürel değerlerini öğrenmelerine, sevmelerine yardımcı olan turizm şekline ne ad verilir?

A) Gençlik turizmi
B) Grup turizmi
C) Ulusal turizm
D) Sosyal turizm
E) Üçüncü yaş turizmi

9. Aşağıdakilerden hangisi kişisel turizmden kitle turizmine geçişin başlaması ve kitle turizminin gelişmesindeki etkenlerden biri değildir?

A) Dar gelirli vatandaşları turizme yönlendirici önlemlerin alınması
B) Büyük kapasiteli turistik tesislerin yapılması
C) Az konforlu ve ucuz turistik tesislerin kurulması
D) Turist sayısının az, tesislerin pahalı olması
E) Grup turlarının gerçekleştirilmesi

10. Aşağıdakilerden hangisi sosyal bilimlerin bir alt dalı olarak kabul edilmektedir?

A) Tarihi zenginlikler
B) Turizm
C) Milli kültür
D) Demografi
E) Manevi değerler

11. Din turizmi açısından büyük bir potansiyele sahip ülkemizde Yahudiler için kutsal kabul edilen yer aşağıdakilerden hangisidir?

A) Neve Şalom Sinagogu
B) Meryem Ana Evi
C) Sumela Manastırı
D) Topkapı Müzesi
E) Yerebatan Samıcı

12. I. Ticaret
II. Sağlık
III. Din

Yukarıdakilerden hangileri ilk çağın seyahat nedenleridir?

A) Yalnız I
B) Yalnız II
C) I ve II
D) II ve III
E) I, II ve III

13. I. Rafting
II. Doğa yürüyüşü
III. Kamp kurma
IV. Yatla gezinti

Yukarıdakilerden hangileri akarsu turizminin amaçlarını içerir?

A) Yalnız I
B) I ve II
C) II ve III
D) I, II ve III
E) II, III ve IV

14. Aşağıdakilerden hangisi bir toplumun sahip olduğu kültürel zenginliklerinden biri değildir?

A) Halk dansları
B) Müzik
C) El sanatları
D) Yer altı kaynakları
E) Tarihi eserler

15. Aşağıdakilerden hangisi insanların dinlenmek ve eğlenmek amacıyla katıldıkları turizm hareketlerinden biri değildir?

A) Doğal güzellikleri görmek
B) Yat gezilerine katılmak
C) Mesleki seminerlere katılmak
D) Eğlence işletmelerine gitmek
E) Gürültüsüz kıyılarda konaklayarak denize girmek

2012 3D 0101-B

16. Sınıf farkı gözetilen toplumlarda, imtiyazlı ve satın alma gücü yüksek olan soylu kişilerin, turizm hareketlerine katılmalarına ne ad verilir?

- A) Sosyal turizm
- B) Kitle turizmi
- C) Kişisel turizm
- D) Aristokratik turizm
- E) Rekreasyon turizmi

17. Aşağıdakilerden hangisi yüksek gelir gruplarına özgü turizm türüdür?

- A) Selektif turizm
- B) Sosyal turizm
- C) Aktif dış turizm
- D) Pasif dış turizm
- E) Kültür turizmi

18. Rönesans çağında turizme aşağıdakilerden hangisi örnek verilebilir?

- A) Macellan'ın dünya seyahati
- B) Haçlı seferleri
- C) Hac ziyareti
- D) Evliya Çelebi'nin seyahati
- E) Marco Polo'nun seyahati

19. Aşağıdakilerden hangisi sosyal turizmin amaçlarından biri değildir?

- A) Konaklama tesisleri arasında bağlantı kurulması
- B) Diğer insanlarla kendini kıyaslama ve sosyal kaynaşma alışkanlığının kazandırılması
- C) Barış içinde yaşamının kitlelere ulaşan bir bilince dönüşmesi
- D) Sosyal eşitliğin sağlanması
- E) Yaşlılar için yeniden aktif bir yaşam ortamının yaratılması

20. Geniş kitlelerin oluşturduğu grupların paket turları tercihlerinden oluşan turizm türüne ne ad verilir?

- A) Ferdi turizm
- B) Grup turizmi
- C) Kitle turizmi
- D) Aktif dış turizm
- E) İç turizm

DİL VE ANLATIM 5

B

2012 3D 0101-B

1. Resmi mektuplarla ilgili verilen bilgilerden hangisi yanlıştır?

- A) Başlık, metin ve son kısım olmak üzere üçe ayrılır.
- B) Çizgisiz ve beyaz kağıt kullanılır.
- C) Üst makam yetkilisi alt makama yazıyorsa rica ederim ifadesi kullanılır.
- D) Mektup sonunda sağ tarafa imza atılır ve imzalayanın ismi yazılır.
- E) Alt makamdaki birisi üst makama yazıyorsa rica ederim ifadesini kullanır.

2. Aşağıdaki deyimlerin hangisinde ünlü düşmesine uğrayan bir sözcük yoktur?

- A) Bağı yanık
- B) Bahtı açık
- C) Aklını çelmek
- D) Göğsü kabarmak
- E) Ağzı sıkı

3. Aşağıdaki cümlelerden hangisinde cümlede yer alan tamlama türü yanlış verilmiştir?

- A) Bilgisayarın klavyesinin tuşları kırıldı. (Zincirleme isim tamlaması)
- B) Çorbaya sıcak su konulur. (Sıfat tamlaması)
- C) Bahçede çocuk sesleri duyulmaz oldu. (Belirtisiz isim tamlaması)
- D) Karanfilin kokusu kalmamış. (Takısız isim tamlaması)
- E) Elmanın çekirdeklerini atma. (Belirtili isim tamlaması)

4. Aşağıdakilerden hangisi özel mektup çeşitlerinden biri değildir?

- A) Aile mektupları
- B) Tebrik mektupları
- C) Edebi mektuplar
- D) Teşekkür mektupları
- E) Davet mektupları

5. Aşağıdaki cümlelerin hangisinde "de"nin kullanımıyla ilgili bir yazım yanlışı yapılmıştır?

- A) Bu yağmur da gidilir mi?
- B) Ayakta durmakta zorlanıyor.
- C) Gidip de dönmek var.
- D) Umut çölde bir vahadır.
- E) Sevgide riya olur mu?

6. Aşağıdaki cümlelerin hangisinde ek olan "-ki" ve bağlaç olan "ki" sözcüğünün yazımında yanlışlık yapılmıştır?

- A) Sanki her tarafta var bir düşün.
- B) Halbuki ona gerçekleri anlatacaktı.
- C) Parası o kadar çok ki neye harcayacağını bilmiyor.
- D) Gitmek istedik buralarda duramadı.
- E) Mademki yoksun, bu dünya dursun.

7. Aşağıdakilerden hangisi öğretici metinler içerisinde yer almaz?

- A) Haber yazısı
- B) Mesnevi
- C) Bilimsel metinler
- D) Tarihi metinler
- E) Biyografi

8. Aşağıdaki cümlelerin hangisinde dünya sözcüğü terim anlamıyla kullanılmıştır?

- A) Öyle sıkıldım ki artık dünyamdan geçtim.
- B) Kafası allak bullak olmuş, dünyadan bihaber.
- C) Dünya kadar işim var.
- D) Ay, Dünya'nın uydusudur.
- E) Ah ne yalan dünya bu ya.

9. Dilekçeye ilişkin verilen bilgilerden hangisi yanlıştır?

- A) Dilekçeye tarih atılması gerekli değildir.
- B) Dilekçe bitiminde sağ alt köşeye imza atılır.
- C) Dilekçe ile birlikte verilecek ekler varsa dilekçe sonunda adresin altına ekler başlığı altında sıralanır.
- D) Dilekçe yazmanın amaçlarından biri de bir şikayeti duyurmaktır.
- E) Kurşun kalemle dilekçe yazılmaz.

10. Sanatta, edebiyatta, bilimde, politikada veya başka alanlarda tanınmış kişilerin yaşamlarını anlatan yazı türüne ne ad verilir?

- A) Anı
- B) Günlük
- C) Biyografi
- D) Hikaye
- E) Deneme

B

2012 3D 0101-B

11. Günlük ve anı ile ilgili olarak aşağıdakilerden hangisi söylenemez?

- A) Günlüklerde özneliliğin ağır bastığı
- B) Anılarda anlatılanların belgelerle kanıtlandığı
- C) Günlüklerin günü gününe yazıldığı
- D) Anıların geçmişe yönelik olduğu
- E) Anıların öğretici ve bilgi verici olduğu

12. Aşağıdaki cümlelerden hangisinde zıt anlamlı kelimeler bir arada kullanılmamıştır?

- A) Az veren candan çok veren maldan verir.
- B) Basketbol takımında uzun ve kısa öğrenciler bir aradaydı.
- C) Uzun uzun yolları aştım geldim.
- D) Karanlıktan aydınlığa ancak eğitimle çıkılır.
- E) Bu gürültüden bıktım, sessizliğe nasıl ihtiyacım var.

13. Makale türü Türk edebiyatına hangi dönemde girmiştir?

- A) Fetret
- B) Meşrutiyet
- C) Islahat
- D) Cumhuriyet
- E) Tanzimat

14. Aşağıdaki cümlelerin hangisinde göz sözcüğü ilk anlamıyla kullanılmıştır?

- A) Yaptığı yanlışlarla gözümde düştü.
- B) Anahtar çantanın gözüne girmiş.
- C) Çorbanın üstü göz göz olunca altını kapat.
- D) Gözüm iki gündür çok ağrıyor.
- E) Aferin, gözüme girdin.

15. Aşağıdakilerden hangisi "kişisel hayatı konu alan metinler"den biridir?

- A) Röportaj
- B) Anı
- C) Sohbet
- D) Mesnevi
- E) Destan

16. Bir yazarın özgürce seçtiği bir konu üzerinde kesin yargılara varmadan kişisel görüş ve düşüncelerini serbestçe anlattığı yazılara ne ad verilir?

- A) Deneme
- B) Makale
- C) Öykü
- D) Mesnevi
- E) Sohbet

17. Aşağıdakilerden hangisinde ünsüz yumuşaması (sert sessiz yumuşaması) gerçekleşmemiştir?

- A) Sevincimiz büyüktü.
- B) Dolaba saklanmış.
- C) Sokağı döndüm.
- D) Ocağı kapatmayı unutmuş.
- E) Suçu başkasına atıyor.

18. Edebiyatımızın gezi türündeki ilk ve en büyük eseri olan Seyahatname eserinin yazarı olan gezgin kimdir?

- A) Edip Ahmet Yükneki
- B) Marco Polo
- C) Evliya Çelebi
- D) Katip Çelebi
- E) Pierre Loti

19. Haber yazıları ile ilgili aşağıdakilerden hangisi yanlıştır?

- A) Kolay anlaşılır olmalıdır.
- B) Anlatılanlar ilgi çekici olmalıdır.
- C) Haber yazılarının günlük ve önemli olması gerekir.
- D) Yazılar spor, sanat, ekonomi gibi çeşitli alanlar hakkında olabilir.
- E) Yazan kişi yorumunu da habere katmalıdır.

20. Bugün Eskişehir() e kar yağmış() ama ben görmedim () Sen gördün mü()

Yukarıdaki cümlelerde parantez içlerine sırasıyla hangi noktalama işaretleri gelmelidir?

- A) (,) (;) (.) (?)
- B) (,) (.) (?) (!)
- C) (,) (!) (.) (?)
- D) (,) (.) (:) (.)
- E) (,) (:) (?), (?)

2012 3D 0101-B

1. $^{35}_{17}\text{Cl}^{-1}$ iyonunun proton (p), elektron (e) ve nötron (n) sayısı ilişkisi, aşağıdakilerden hangisinde doğru verilmiştir?
- A) $e=p<n$
 B) $e>n>p$
 C) $e=n>p$
 D) $e=n<p$
 E) $e=p=n$

2. Aşağıdaki elektron dizilişlerinden hangisi yanlıştır?

- A) $_{16}\text{S}: 1s^2 2s^2 2p^6 3s^2 3p^4$
 B) $_{13}\text{Al}: 1s^2 2s^2 2p^6 3s^2 3p^1$
 C) $_{7}\text{N}: 1s^2 2s^2 3s^2 4s^1$
 D) $_{17}\text{Cl}^{+7}: 1s^2 2s^2 2p^6$
 E) $_{8}\text{O}^{-2}: 1s^2 2s^2 2p^6$

3. Nötr bir atom, 2 elektron aldığı zaman aşağıdaki açıklamalardan hangisi söylenebilir?

- A) Nötron sayısı artar.
 B) Atom numarası değişmez.
 C) Kütle numarası artar.
 D) Proton sayısı, elektron sayısından iki fazla olur.
 E) +2 yüklü iyon olur.

4. Aşağıdakilerden hangisi ametallerin ortak özelliklerinden biri değildir?

- A) Erime ve kaynama noktalarının düşük olması
 B) Oda koşullarında katı, sıvı ve gaz halinde olmaları
 C) Metallerle ve kendi aralarında bileşik oluşturmaları
 D) Isı ve elektriği iyi iletmeleri
 E) Yüzeylerinin mat olması

5. S^{-2} ile K^{+1} iyonları eşit sayıda elektron içermektedir. K'nın atom numarası 19 olduğuna göre, S'nin atom numarası kaçtır?

- A) 16
 B) 17
 C) 20
 D) 22
 E) 23

6. Atom numarası 19 olan K elementi periyodik cetvelin hangi periyot ve hangi grubunda yer alır?

| | Periyot | Grup |
|----|---------|------|
| A) | 3 | 1A |
| B) | 4 | 1A |
| C) | 3 | 3A |
| D) | 4 | 4A |
| E) | 3 | 6A |

7. Klor atomunun $^{35}_{17}\text{Cl}^{-1}$ ve $^{37}_{17}\text{Cl}^{+7}$ gibi izotopları bilinmektedir.

Buna göre, farklı yüklü izotop iyonlarla ilgili olarak;

- I. Elektron sayıları farklıdır.
 II. Atom numaraları aynıdır.
 III. Fiziksel özellikleri farklıdır.

İfadelerinden hangileri doğrudur?

- A) Yalnız I
 B) Yalnız II
 C) I ve III
 D) II ve III
 E) I, II ve III

2012 3D 0101-B

15. ${}^{74}_{35}\text{X}^{-1}$ iyonu ile ilgili aşağıdakilerden hangisi söylenemez?

A) Proton sayısı 35 dir.
 B) Nötron sayısı 39 dur.
 C) Atom numarası 35 dir.
 D) Kütle numarası 74 dür.
 E) Elektron sayısı 34 dür.

16. FeO bileşiğinde demirin oksijene kütlece birleşme oranı 7/2 dir. 42 gram demirle yeterince oksijen reaksiyona girdiğinde kaç gram FeO oluşur?

A) 16
 B) 44
 C) 54
 D) 76
 E) 84

17. Aşağıdaki bileşiklerin hangisinde iyonik bağ bulunmaz?

A) NaF
 B) CaCl₂
 C) HCl
 D) KCl
 E) BaO

18. I. SO₂ - SO₃
 II. C₂H₄-C₄H₈
 III. NO-CO₂

Yukarıdaki bileşik çiftlerinden hangileri katlı oranlar yasasına uymaz?

A) Yalnız II
 B) Yalnız III
 C) I ve II
 D) I ve III
 E) II ve III

19. ${}_{10}\text{X}$, ${}_{11}\text{Y}$ ve ${}_{12}\text{Z}$ elementleri ile ilgili

I. Her üçü de aynı periyottadır.
 II. Atom çapı en büyük Y dir.
 III. Değerlik elektron sayıları sırasıyla 8, 1, 2 dir.

yargılarından hangileri doğrudur?

A) Yalnız I
 B) Yalnız II
 C) I ve II
 D) I ve III
 E) II ve III

20. Aşağıda verilen atom çiftlerinden hangisi birbirinin izotopu değildir?

A) ${}^{23}_{11}\text{Na}$ - ${}^{24}_{11}\text{Na}$
 B) ${}^{63}_{29}\text{Cu}$ - ${}^{65}_{29}\text{Cu}$
 C) ${}^{35}_{17}\text{Cl}$ - ${}^{36}_{17}\text{Cl}$
 D) ${}^{65}_{30}\text{Zn}$ - ${}^{65}_{29}\text{Cu}$
 E) ${}^1_1\text{H}$ - ${}^2_1\text{H}$

2012 3D 0101-B

1. Aşağıdakilerden hangisi nitel bir gözlemdir?

- A) Bugün hava güneşlidir.
- B) Su 100 °C de kaynar.
- C) Çocuk 45 kg ağırlığındadır.
- D) Adam 175 cm boyundadır.
- E) Kadın 52 yaşındadır.

2. Canlıları benzerliklerine ve akrabalık derecesine göre sınıflandırarak inceleyen bilim dalına ne ad verilir?

- A) Genetik
- B) Morfoloji
- C) Histoloji
- D) Biyokimya
- E) Taksonomi

3. Aşağıdakilerden hangisi 1610 yılında ilk mikroskopun yapımını gerçekleştiren bilim adamıdır?

- A) Mendel
- B) Hooke
- C) Galileo
- D) Darwin
- E) Watson

4. Aşağıdakilerden hangisi bilim adamında bulunması gereken özelliklerden biri değildir?

- A) İyi gözlemci olması
- B) Dikkatli olması
- C) Gerçekçi olması
- D) Kararlı olması
- E) Önyargılı olması

5. Canlıların zaman içinde geçirdikleri değişimi inceleyerek meydana gelen değişiklikleri ve yeni türlerin oluşumunu açıklayan bilim dalı aşağıdakilerden hangisidir?

- A) Evrim
- B) Ekoloji
- C) Anatomi
- D) Embriyoloji
- E) Sitoloji

6. Aşağıdakilerden hangisi radyasyondan korunmada alınması gereken tedbirlerden biri değildir?

- A) Nükleer silahlar kontrol altına alınmalı
- B) Teşhis ve tedavide belli kontrol ve standartlarda olan makineler kullanılmalı
- C) İnsanlara eğitim verilmeli
- D) Güneş enerjisi yerine nükleer enerji kullanılmalı
- E) Nükleer denemeler yasaklanmalı

7. Aşağıdakilerden hangisi toprak kirliliğine karşı alınacak önlemlerden biri değildir?

- A) Toplum, ormanların korunması konusunda eğitilmelidir.
- B) Nükleer enerji kullanımı bilinçli bir şekilde yapılmalıdır.
- C) Sanayi tesisleri ve yerleşim alanları verimli tarım alanlarına kurulmalıdır.
- D) Evsel, sanayi ve hastane atıkları toprağa zarar vermeyecek şekilde depolanmalıdır
- E) Tarım ilaçlarının yanlış uygulaması önlenmelidir

8. Aşağıdakilerden hangisi günlük döngüdür?

- A) Menstrüasyon
- B) İnsan uykusu
- C) Ağaçların yaprak dökmesi
- D) Kuşların göç etmesi
- E) Ağaçların çiçek açması

9. Parazit yaşam ile ilgili aşağıdaki ifadelerden hangisi doğrudur?

- A) Bir arada yaşayan canlılardan biri bu birliktelikten zarar, diğeri yarar görür.
- B) Bir arada yaşayan canlıların ikisi de bu birliktelikten yarar görür.
- C) Bir arada yaşayan canlıların ikisi de bu birliktelikten zarar görür.
- D) Likenler parazit yaşama örnek oluştururlar.
- E) Alg ve mantar parazit yaşam sürerler.

10. Aşağıdakilerden hangisi ekosistemde görülen döngülerden biri değildir?

- A) Su
- B) Karbon
- C) Oksijen
- D) Amonyak
- E) Azot

2012 3D 0101-B

11. Aşağıdakilerden hangisi su kirliliğine karşı alınacak önlemlerden biri değildir?

- A) Evsel atıklar suya karışmadan önce arıtılmalı
- B) Tarımda aşırı gübreleme yapılmamalı
- C) Sanayi atıkları arıtıldıktan sonra çevreye bırakılmalı
- D) Sanayi tesisleri yerleşim yerlerinden uzakta olmalı
- E) Temizlik için bol deterjan kullanılmalı

12. Biyolojik saat ile ilgili aşağıdaki ifadelerden hangisi yanlıştır?

- A) Bütün hayvanlarda biyolojik saat aynıdır.
- B) Biyolojik ritmi düzenler.
- C) Beyinde hipotalamus tarafından kontrol edilir.
- D) Vücut sıcaklığı biyolojik saate göre değişmektedir.
- E) Hormon salgısı biyolojik saate göre değişmektedir.

13. Aşağıdakilerden hangisi bitkilerde tropizma hareketlerinden biri değildir?

- A) Bitki köklerinin suya yönelmesi
- B) Bitki çiçeklerinin akşam açılıp gündüz kapanması
- C) Bitki köklerinin yer çekimine doğru yönelmesi
- D) Bitki köklerinin suda çözünmüş olan kimyasal maddelere yönelmesi
- E) Bitkinin ışığa yönelmesi

14. İçgüdü ile ilgili aşağıdaki ifadelerden hangisi yanlıştır?

- A) Kedinin fareyi yakalama tepkisi iç güdüseldir.
- B) Doğuştan kazanılır.
- C) Organizma belli bir uyarıya karşı aynı tepkiyi oluşturur.
- D) İç güdü çevreden etkilenir.
- E) Öğrenme ile değişip farklılaşır.

- 15. I. Işık
- II. İklim
- III. Su
- IV. Toprak

Yukarıdakilerden hangileri canlıları etkileyen abiyotik etmenlerdendir?

- A) Yalnız I
- B) Yalnız III
- C) I ve II
- D) II, III ve IV
- E) I, II, III ve IV

16. Aşağıdakilerden hangisi hayatın başka gezegenlerden dünyaya gelen bazı spor veya tohumlarla başladığını savunan görüştür?

- A) Abiyogenez
- B) Panspermia
- C) Yaratılış
- D) Heterotrof
- E) Ototrof

17. Heterotrof görüşe göre, ilk atmosferde aşağıdakilerden hangisi yoktur?

- A) Metan
- B) Hidrojen
- C) Serbest halde oksijen
- D) Su buharı
- E) Amonyak

18. Kullanılan organın geliştiği, kullanılmayanın ise zayıfladığını ve köreldiğini ileri süren bilim adamı aşağıdakilerden hangisidir?

- A) Darwin
- B) Hooke
- C) Mendel
- D) Lamarck
- E) Pastör

19. Aşağıdakilerden hangisi canlıların kendiliğinden var olabildiği görüşünü savunan bilim adamıdır?

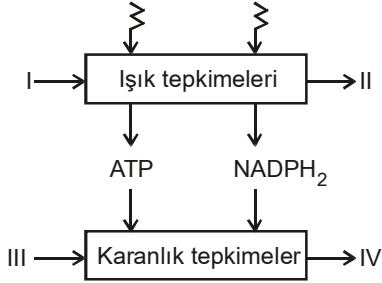
- A) Pastör
- B) Aristo
- C) Lamark
- D) Darwin
- E) Redi

20. Aşağıdakilerden hangisi evrimi destekleyen morfolojiden elde edilen kanıttır?

- A) Canlıların kimyasal ve fizyolojik işleyişlerinde benzerlikler olması
- B) Canlılarda benzer olan kimyasal reaksiyonların akrabalık derecelerini açıklaması
- C) Türler arasında kökenleri aynı, görevleri farklı organlar olması
- D) Birçok türün embriyolojik gelişiminde birbirine benzer evrelerin görülmesi
- E) Yakın akraba olan türlerde genetik yapı benzerliğinin olması

2012 3D 0101-B

8.



Yukarıda özetlenen fotosentez tepkimelerinde numaralı yerlere sırasıyla, aşağıdakilerden hangisi gelmelidir?

| I | II | III | IV |
|---------------------|------------------|------------------|--------|
| A) H ₂ O | O ₂ | CO ₂ | Glikoz |
| B) H ₂ O | CO ₂ | O ₂ | Glikoz |
| C) CO ₂ | O ₂ | H ₂ O | Glikoz |
| D) CO ₂ | H ₂ O | O ₂ | Glikoz |
| E) O ₂ | H ₂ O | CO ₂ | Glikoz |

9. Aşağıdakilerden hangisi fermentasyonla oksijenli solunumun ortak özelliği değildir?

- A) Glikozun hammadde olması
- B) Enzimlerin kullanılması
- C) ATP nin üretilmesi
- D) CO₂ nin açığa çıkması
- E) H₂O nun açığa çıkması

10. Bir DNA zincirindeki baz sırası aşağıdaki gibidir:

AAT GCA CCG

Buna göre, bu zincirden sentezlenecek mRNA'daki kodon dizilişi aşağıdakilerden hangisi gibi olur?

- A) TTA CGT GGC
- B) UUA CGU GGC
- C) AAU GCA CCG
- D) UUA GCA CCG
- E) TTA GCA GGC

11. Aşağıdakilerden hangisi mitokondrideki solunum zincirinin (ETS nin) elektron taşıyan elemanlarından biri değildir?

- A) Sitobrom b
- B) NAD
- C) Asetil Co - A
- D) FAD
- E) Co enzim - Q

12. Aşağıdakilerden hangisi endotermik reaksiyonlardan biri değildir?

- A) Oksijenli solunum
- B) Biyosentez
- C) Hareket, kasılma
- D) Aktivasyon enerjisi
- E) Sinirsel iletim

13. Aşağıdaki olaylardan hangisi yeşil bir bitki hücresinde görülmez?

- A) Oksidatif fosforilasyon
- B) Devirli fosforilasyon
- C) Devirsiz fosforilasyon
- D) Kemosentetik fosforilasyon
- E) Substrat düzeyinde fosforilasyon

14. RNA'da aşağıdaki bazlardan hangisi bulunmaz?

- A) Adenin
- B) Guanin
- C) Sitozin
- D) Urasil
- E) Timin

15. Bir çok hücrenin oksijen yokluğunda veya yetersizliğinde glikozu etil alkol veya laktik aside kadar parçalayarak enerji elde etmesine ne denir?

- A) Aktivasyon enerjisi
- B) Glikoliz
- C) Fermentasyon
- D) Fosforilasyon
- E) Fotosentez

2012 3D 0101-B

16. Aşağıdakilerden hangisi fotosentez hızını etkileyen çevresel faktörlerden biri değildir?

- A) Işık şiddeti
- B) Klorofil miktarı
- C) CO₂ (karbondioksit) yoğunluğu
- D) Sıcaklık
- E) Işığın dalga boyu

17. Aşağıdakilerden hangisi DNA ile RNA arasındaki farklardan biri değildir?

- A) RNA'da deoksiriboz şekeri varken DNA'da riboz şekeri vardır.
- B) Kimi özel durumlar dışında RNA'da tek iplik, DNA'da çift iplik bulunur.
- C) RNA'da DNA'daki timin bazı yerine urasil bazı bulunur.
- D) RNA, RNA polimeroz enzimi ile DNA'daki genetik bilgiye göre sentezlenir.
- E) DNA kendini eşleyebilir, RNA kendini eşleyemez.

18. DNA'nın I. ipliğindeki azotlu organik bazların dizilişi G-G-C-T-A-A-T-C şeklinde ise II. ipliğindeki dizilişi aşağıdakilerden hangisidir?

- A) T-T-A-G-C-C-G-A
- B) G-G-C-A-T-T-A-G
- C) A-A-T-C-G-G-C-T
- D) C-C-G-A-T-T-A-G
- E) C-C-A-G-A-A-T-C

19. Fotosentez olayı ökaryot canlıların aşağıdaki organellerinden hangisinde gerçekleşir?

- A) Mitokondri
- B) Lizozom
- C) Ribozom
- D) Kloroplast
- E) Golgi aygıtı

20. Kemosentetik ototrof canlılar, organik besin sentezi için gerekli olan kimyasal enerjiyi okside ederek elde ettikleri inorganik maddelerden biri değildir?

- A) Amonyak
- B) Hidrojen sülfür
- C) Oksijen
- D) Nitrit
- E) Demir

DEMOKRASİ VE İNSAN HAKLARI 1

B

2012 3D 0101-B

1. Din, mezhep, etnik köken, asalet, servet, makam vb. gözetilmeksizin kişilerin yasalar karşısında eşit muamele görmesine ne ad verilir?

- A) Hukuki eşitlik
- B) Hukuki düzen
- C) Temel hak
- D) Adalet
- E) Düzen

2. Magna Carta Libertatum (Büyük Özgürlük Fermanı) hangi tarihte imzalanmıştır?

- A) 1215
- B) 1345
- C) 1415
- D) 1545
- E) 1615

3. Aşağıdakilerden hangisi isteme haklarından biri değildir?

- A) Dinlenme hakkı
- B) Çalışma hakkı
- C) Konut hakkı
- D) Yaşama hakkı
- E) Toplu iş sözleşmesi hakkı

4. Aşağıdakilerden hangisi bir tüzel kişi değildir?

- A) Demekler
- B) Vakıflar
- C) Ticari kuruluşlar
- D) Siyasi partiler
- E) Toplumsal gruplar

5. Türk kadınlarına seçme ve seçilme hakkı hangi yıl çıkarılan yasayla verilmiştir?

- A) 1923
- B) 1925
- C) 1934
- D) 1945
- E) 1950

6. Seçmen olmanın vergi ödemek gibi belli şartlara bağlandığı oy türü aşağıdakilerden hangisidir?

- A) Çoğulcu
- B) Genel
- C) Temsili
- D) Listeli
- E) Kısıtlı

7. Üyelerinin düşünce ve menfaatlerini gerçekleştirmek için iktidarı kısmen ya da tamamen elde etmek amacıyla siyasi hayata katılan gruba ne ad verilir?

- A) Demek
- B) Siyasi parti
- C) Sendika
- D) Bürokrasi
- E) Toplumsal kurum

8. Amerikan bağımsızlık bildirgesi hangi tarihte ilan edilmiştir?

- A) 24 Ekim 1686
- B) 24 Ekim 1717
- C) 4 Temmuz 1776
- D) 4 Temmuz 1851
- E) 24 Kasım 1908

9. Halkın seçmen olabilmesi için ırk, servet, cinsiyet, yetenek gibi şartların aranmadığı oy türü aşağıdakilerden hangisidir?

- A) Genel
- B) Temsili
- C) Doğal
- D) Pozitif
- E) Denetimsiz

10. Kuvvetler ayrılığı düşüncesini savunarak devletin mutlak gücünü kişi hak ve özgürlükleri karşısında sınırlandırmayı savunan ve toplum sözleşmesi anlayışını geliştiren düşünür kimdir?

- A) Erasmus
- B) Machiavelli
- C) Copernic
- D) Rousseau
- E) Bodin

B

2012 3D 0101-B

11. Birleşmiş Milletler Örgütü'nün ilk denetim organı aşağıdakilerden hangisidir?

- A) Kadınlara Karşı Ayrımcılığın Kaldırılması Komitesi
- B) Ekonomik Sosyal ve Kültürel Haklar Komitesi
- C) İşkenceye Karşı Komite
- D) Irk Ayrımcılığının Kaldırılması Komitesi
- E) Çocuk Hakları Komitesi

12. Avrupa İnsan Hakları Mahkemesi'nin kararlarının yerine getirilmesini denetleyen, yılda iki kez toplanan ve siyasi yaptırıma sahip olan denetim organı aşağıdakilerden hangisidir?

- A) Kıdemli Memurlar Komitesi
- B) Danışma Komitesi
- C) Çatışma Önleme Komitesi
- D) Delegeler Komitesi
- E) Bakanlar Komitesi

13. ILO hangi yıl ve nerede kurulmuştur?

- A) 1915 İngiltere
- B) 1919 İsviçre
- C) 1932 Almanya
- D) 1939 Amerika Birleşik Devletleri
- E) 1945 Fransa

14. Birleşmiş Milletler'de "İşkenceye ve Başka Zalimce İnsanlık Dışı ya da Onur Kırıcı Ceza ya da Davranışlara Karşı Sözleşme" hangi tarihte kabul edilmiştir?

- A) 24 Kasım 1972
- B) 24 Temmuz 1979
- C) 10 Aralık 1984
- D) 10 Nisan 1989
- E) 1 Ekim 1995

15. Birleşmiş Milletler örgütü hangi tarihte kurulmuştur?

- A) 24 Ekim 1945
- B) 20 Nisan 1946
- C) 24 Temmuz 1949
- D) 15 Mayıs 1954
- E) 26 Haziran 1961

16. Bir ülkede belli bir dönemde geçerli olan kuralların zorla ve köklü bir değişikliğe tabi tutularak yerine yenilerinin getirilmesine ne ad verilir?

- A) Liberalizm
- B) Reform
- C) Demokrasi
- D) Totalitarizm
- E) Devrim

17. Bir ülkede yaşayan, bir devlete vatandaşlık bağı ile bağlı ve kendini o ülkenin kaderine bağlamış insanlardan oluşan bütüne ne ad verilir?

- A) Örgüt
- B) Grup
- C) Topluluk
- D) Halk
- E) Irk

18. Aşağıdakilerden hangisi herkesin dininin gereklerini özgürce yaşayabilmesinin önkoşuludur?

- A) Ekonomik kalkınmışlık
- B) Laiklik
- C) Tek kültürlülük
- D) Devletçilik
- E) Milliyetçilik

19. Batıda Rönesans adı verilen dönem hangi yüzyılda ortaya çıkmaya başlamıştır?

- A) 11.
- B) 13.
- C) 15.
- D) 17.
- E) 19.

20. Aşağıdakilerden hangisi Atatürk İnkılâbının dayandığı ilkelerden biri değildir?

- A) Halkçılık
- B) Seçkincilik
- C) Milliyetçilik
- D) İnkılâpçılık
- E) Devletçilik

MİLLİ GÜVENLİK BİLGİSİ 2

B

2012 3D 0101-B

1. Tarihte, Türkiye Cumhuriyeti'nden önce kaç büyük Türk Devleti kurulmuştur?

- A) 9
- B) 10
- C) 12
- D) 16
- E) 18

2. Aşağıdakilerden hangisi 1982 Anayasası'nın birinci maddesini oluşturmaktadır?

- A) Türkiye Cumhuriyeti Atatürk milliyetçiliğine bağlıdır.
- B) Türkiye Devleti bir cumhuriyettir.
- C) Türkiye Devleti ülkesi ve milletiyle bölünmez bir bütündür.
- D) Milli marşı "İstiklâl Marşı"dır.
- E) Dili Türkçe'dir.

3. Atatürk ilkelerinden hangisi, din ve devlet işlerinin birbirinden ayrı tutulmasını sağlar?

- A) Devletçilik
- B) Halkçılık
- C) Laiklik
- D) Cumhuriyetçilik
- E) Milliyetçilik

4. Bir milletin üzerinde yaşadığı coğrafyaya ne ad verilir?

- A) Vatan
- B) Bölge
- C) Alan
- D) Konum
- E) Jeopolitik

5. Aşağıdakilerden hangisi Atatürk'ün milliyetçilik anlayışının özelliklerinden biri değildir?

- A) Irkçılığa karşı olması
- B) Laikliği benimsemesi
- C) Evrensel niteliklere sahip olması
- D) Türk milletinin varlığından başka milletlere önem vermemesi
- E) Barışçıl ve insancıl olması

6. Kuzey Kıbrıs Türk Cumhuriyeti kaç yılında kurulmuştur?

- A) 1981
- B) 1983
- C) 1984
- D) 1985
- E) 1986

7. Bir coğrafyanın dünya üzerinde askeri açıdan taşıdığı öneme ne ad verilir?

- A) Jeolojik konum
- B) Jeofizik konum
- C) Jeopolitik
- D) Lojistik
- E) Jeostratejik konum

8. Aşağıdakilerden hangisi bir vatandaşın sahip olması gereken temel değerlerden biri değildir?

- A) Millete bağlılık
- B) Topluma karşı sorumluluk
- C) Diğer insanlara karşı sorumluluk
- D) Kendi çıkarlarını her zaman ön planda tutmak
- E) Vatana bağlılık

9. Aşağıdakilerden hangisi Türkiye ile İran arasında yaşanmış temel sorunlardan biri değildir?

- A) Türkiye'nin İran'a ambargo uygulaması
- B) İran'ın, Türkiye'ye sığınan İran'lı rejim karşıtlarını iade talebinde bulunması
- C) İran'ın Türkiye'yi Devrim İhraç Politikası içinde gömesi
- D) Türkiye'nin batı bloğu içinde yer alması
- E) Türkiye'nin İran-Irak Savaşı'nda izlediği tarafsızlık politikası

10. Aşağıdakilerden hangisi jeopolitiği oluşturan değişmeyen etkenlerden biridir?

- A) Zaman
- B) Ekonomik değerler
- C) Politik değerler
- D) Askeri değerler
- E) Dünya üzerindeki yeri

B

2012 3D 0101-B

11. Bir şeye, bir kimseye karşı duyulan sevgi ve fedakarlıkların toplamına ne ad verilir?

- A) Sağduyu
- B) Cesaret
- C) Nezaket
- D) Empati
- E) Saygı

12. Avrupa Birliği (AB) organlarından hangisi, üye ülkelerin devlet ya da hükümet başkanlarından oluşur?

- A) Avrupa Parlamentosu
- B) AB Bakanlar Konseyi
- C) AB Konseyi
- D) Komisyon
- E) Mahkeme

13. Coğrafi unsurların askeri açıdan incelenmesi ve stratejik sonuçlar çıkarılmasına ne ad verilir?

- A) Lojistik
- B) Jeostrateji
- C) Jeofizik
- D) Jeolojistik
- E) Jeopolitik

14. Bir devletin ülkesi ile milli tarihi, vatandaşın milli bilinci, devletin milli gücü ve dünya devletlerinin politik şartlarını ve ilişkilerini dikkate alarak milli politikanın tayin, tespit ve yönetilme esaslarını gösteren bilim aşağıdakilerden hangisidir?

- A) Jeopolitik
- B) Jeoloji
- C) Coğrafya
- D) Strateji
- E) Politika

15. Bir milletin sahip olduğu siyasal, sosyal ve askeri alanlardaki kurumların, devlet eliyle makul ve ölçülü metotlarla köklü bir şekilde değiştirilmesine ne ad verilir?

- A) Halkçılık
- B) İnkılap
- C) Değişim
- D) İhtilal
- E) Çağdaşlık

16. Aşağıdakilerden hangisi Ege Denizi'nde karşılaştığımız sorunlardan biri değildir?

- A) Gayri askeri statüdeki adaların silahlandırılması sorunu
- B) Hava sahası sorunları
- C) Soykırım iddiaları sorunu
- D) Karasuları sorunu
- E) Kıt'a sahanlığı sorunu

17. Ekonomik İşbirliği Teşkilatı'nın merkezi nerededir?

- A) Londra
- B) Paris
- C) Tahran
- D) Bakü
- E) İslamabad

18. Birleşmiş Milletler kaç yılında kurulmuştur?

- A) 1940
- B) 1942
- C) 1943
- D) 1944
- E) 1945

19. Aşağıdakilerden hangisi Türkiye'nin tarih ve kültür birliğinin bulunduğu bölgede yer alan Orta Asya Türk Cumhuriyetleri'nden biri değildir?

- A) Ukrayna
- B) Kazakistan
- C) Özbekistan
- D) Kırgızistan
- E) Türkmenistan

20. Kuzey Atlantik Antlaşması olarak kurulan ve İkinci Dünya Savaşı sonrasında Avrupa'da Sovyetler Birliği'nin yayılmacı politikalarına karşı üyelerinin güvenliğini sağlamak ve istikrarın gelişmesine yardımcı olmayı amaç edinen örgüt aşağıdakilerden hangisidir?

- A) OECD
- B) İKÖ
- C) NATO
- D) KEİB
- E) BM

İŞ GÜVENLİĞİ 2

B

2012 3D 0101-B

1. Aşağıdakilerden hangisi kanama çeşitlerinden biridir?

- A) Yara kanamaları
- B) Tumike kanamaları
- C) Toplardamar kanamaları
- D) Yanık kanamaları
- E) Kesik kanamaları

2. Aşağıdakilerden hangisi bir işyerinde çıkabilecek yangınların başlıca nedenlerinden biri değildir?

- A) İhmal ve dikkatsizlik
- B) Bilgisizlik
- C) Yangınlardan korunma önlemlerinin alınması
- D) Sabotaj
- E) Doğa olayları

3. Aşağıdakilerden hangisi kimyasal yanıkların oluşma nedenidir?

- A) Toz
- B) Rutubet
- C) Tuz
- D) Güneş ışığı
- E) Kuvvetli asit

4. İnce bağırsak beş yaştan üzerindeki insanlarda genellikle kaç metre uzunluğundadır?

- A) 1-2
- B) 3-4
- C) 5-6
- D) 7-8
- E) 9-10

5. Vücudun normal şeklini, yapısını, vücudu oluşturan organları ve bu organlar arasındaki yapısal, görevsel ilişkileri inceleyen bilim dalına ne ad verilir?

- A) Anatomi
- B) Pediatri
- C) Filoloji
- D) Histoloji
- E) Genetik

6. Bir kadın kalbinin ortalama ağırlığı kaç gramdır?

- A) 200-230
- B) 230-280
- C) 280-300
- D) 300-330
- E) 330-350

7. Atardamar , toplardamar ve kılcal damarlardan oluşan damar ağının içinde dolaşan akıcı plazma ve hücrelerden oluşmuş kırmızı renkli yaşamsal sıvının adı nedir?

- A) Kan
- B) Alyuvar
- C) Akyuvar
- D) Trombosit
- E) Lokosit

8. İşçilerin kendi hak ve çıkarlarını korumak ve geliştirmek üzere oluşturdukları ve bir araya geldikleri sınıfsal ve toplumsal örgütün adı nedir?

- A) Oda
- B) Loca
- C) Ahi teşkilatı
- D) Sendika
- E) Demek

9. Vücuttaki dokulara yeterli oksijenin gitmemesi sonucu dokularda bozulma meydana gelmesine ne denir?

- A) Boğulma
- B) Daralma
- C) Sıkıntı
- D) Heyecan
- E) Kırılma

10. Kaza, hastalık, yangın, deprem vb. tehlikeli ve ani durumlarda hastaya kesin tedavi öncesi uygulanan ilk ve ivedi işleme ne ad verilir?

- A) Tanı
- B) Teşhis
- C) İlk yardım
- D) Şok
- E) Anestezi

B

2012 3D 0101-B

11. 1473 yılında kuyumcularla ilgili bazı hastalıkları inceleyen bilim adamı kimdir?

- A) Rammazzini
- B) Ulrich Ellenbrong
- C) Paracelsus
- D) Dioscorides
- E) Acricola

12. Aşağıdakilerden hangisi kıvılcım kaynaklarından biridir?

- A) Sönmüş sigara
- B) Cep telefonu
- C) Bilgisayar
- D) Piknik örtüsü
- E) Baca

13. 1847 yılında çıkarılan ve çalışma saatlerini sınırlayan yasanın adı nedir?

- A) On saat yasası
- B) Magnacarta
- C) Çıraklık yasası
- D) İLO sözleşmesi
- E) Borçlar Kanunu

14. Fuel-Oil üzerine ince damlalar halinde su püskürtülerek yanmayı durdurma olayına ne ad verilir?

- A) Antiseptik
- B) Emülsifikasyon
- C) Enfeksiyon
- D) Aerosol
- E) Ampütasyon

15. Aşağıdakilerden hangisi işverenin kanuna göre Sosyal Güvenlik Kurumuna karşı sorumluluklarından biri değildir?

- A) İş yeri bildirgesi ve eklerinin verilmesi
- B) Sigorta primlerinin Kuruma ödenmesi
- C) Aylık prim ve hizmet belgesinin belirtilen biçimde ve sürede verilmesi
- D) Çalıştırmadığı işçilerin bildirgesinin verilmesi
- E) İş kazası ve meslek hastalığı bildiriminin yapılması

16. Mekanik çalışan kaldırma araçlarının kancalarının güvenlik katsayısı (taşıma gücü) taşıyacakları yükün kaç katına eşit olmalıdır?

- A) 1
- B) 2
- C) 3
- D) 4
- E) 5

17. Çalışma ve Sosyal Güvenlik Bakanlığı Bölge Müdürlüklerince verilen idari para cezalarına nerede itiraz edilebilir?

- A) Ağır mahkemesi
- B) Vergi mahkemesi
- C) İş mahkemesi
- D) Sulh ceza mahkemesi
- E) Asliye mahkemesi

18. Aşağıdakilerden hangisi elektrikten kaynaklanan iş kazalarının önlenmesinde alınacak önlemlerden biri değildir?

- A) Yalıtım
- B) Topraklamak
- C) Sıfırlamak
- D) İzolasyon trafosu
- E) Büyük gerilim kullanmak

19. Uçakların kanatlarında ve bazı bölümlerinde soğuk havalarda ve sürat nedeniyle donmayı önlemek için kullanılan yanma özelliğine sahip maddenin adı nedir?

- A) Hidroliz
- B) Anti-icing
- C) Diyastol
- D) Epitelyum
- E) Anyonik

20. Türkiye'de Cumhuriyetin ilanından sonra iş sağlığı ve iş güvenliği alanında ilk düzenleme hangisidir?

- A) Sosyal Güvenlik Yasası
- B) Borçlar Yasası
- C) Belediyeler Yasası
- D) Umumi Hıfzısıhha Yasası
- E) Hafta Tatili Yasası

SANAT TARİHİ 1

B

2012 3D 0101-B

1. Homeros'un İlyada Destanı'na da konu olan Truva Efsanesi'nin geçtiği "Truva Kenti" bugün hangi ilimizin sınırları içerisinde?

- A) Bursa
- B) İstanbul
- C) Ankara
- D) Balıkesir
- E) Çanakkale

2. Hazar Denizi, Malatya, Erzurum, Musul ve Halep arasındaki bölgede yaşayan Asya kökenli Hurri kabileleri tarafından M.Ö.IX yüzyılda Van Gölü ve çevresinde kurulan, başkenti Tuşpa olan devlet aşağıdakilerden hangisidir?

- A) Hitit
- B) Urartu
- C) Asur
- D) Frig
- E) Sümer

3. Aşağıdakilerden hangisi Anadolu'daki tarih öncesi çağlardan biri değildir?

- A) Nüemizmatik
- B) Neolitik
- C) Kalkolitik
- D) Mezolitik
- E) Paleolitik

4. Forumların çevresinde yer alan resmi işlerin yürütüldüğü, içi sütunlarla neflere ayrılmış dikdörtgen planlı yapılara ne ad verilir?

- A) Bouleterion
- B) Tiyatro
- C) Tapınak
- D) Bazilika
- E) Amfiteyatro

5. Yunan kentlerinde Pazar yeri ve halkın toplandığı açık meydanlar olan "agora"nın, işlev ve kurgu olarak Roma kentlerindeki benzer niteliklere sahip mimari uygulaması aşağıdakilerden hangisidir?

- A) Forum
- B) Stadion
- C) Sütunlu Cadde
- D) Zafer Takı
- E) Anfiteyatro

6. Anadolu'da ilk parayı kullanan uygarlık aşağıdakilerden hangisidir?

- A) Truva
- B) Urartu
- C) Frigya
- D) Lidya
- E) Çatalhöyük

7. Bizans sanatında 6.yy.da bazilika mimarisi geliştirilerek kubbeli bazilikalar inşa edilmiştir.

Bu yapıların en anıtsal örneği aşağıdakilerden hangisidir?

- A) İstanbul Sergios Bacchos Kilisesi
- B) İstanbul Ayasofya Kilisesi
- C) İstanbul Aya İrini Kilisesi
- D) Demre Aziz Nikolaos Kilisesi
- E) Karaman Binbir Kilise

8. Yunan Heykeltçiliği'nde portre sanatının en önemli sanatçısı kimdir?

- A) Leochares
- B) Miron
- C) Praksiteles
- D) Lysippos
- E) Polikleitos

9. Aşağıdaki sanat türlerinden hangisi güzel sanatlardan biri değildir?

- A) Tiyatro
- B) Mimari
- C) Müzik
- D) Pantomim
- E) Kuyumculuk

10. Bizans Sanatı'nda bir döneme de adını veren "ikonoklazma" teriminin anlamı aşağıdakilerden hangisidir?

- A) Tasvir Kırıcılık
- B) İsa'nın Mucizeleri
- C) El Yazması
- D) İsa'nın Doğumu
- E) Son Akşam Yemeği

B

2012 3D 0101-B

11. Frig Devleti'nin kurucusu ve ünlü kralı Midas'ın Gordion'da bulunan mezarı, yığma toprak tepeden oluşan ve içinde mezar odası bulunan bir mezar yapısıdır.

Aşağıdakilerden hangisi bu mezar yapısını tanımlar?

- A) Dolmen
- B) Piramit
- C) Tümülüs
- D) Mastaba
- E) Menhir

12. Pantomim, aşağıdaki güzel sanatların hangi türü içinde değerlendirilebilir?

- A) Endüstriyel Sanatlar
- B) İşitsel Sanatlar
- C) Plastik Sanatlar
- D) Karma Sanatlar
- E) Ritmik Sanatlar

13. Mezopotamya'da Ur, Uruk, Umma ve Kaş gibi önemli şehir devletleri aşağıdaki uygarlıklardan hangisi tarafından kurulmuştur?

- A) Sümerler
- B) Babililer
- C) Asurlular
- D) Akadlar
- E) Hititler

14. Küçük boyutlu renkli taş, cam ve değişik malzemelerin yan yana dizilmesiyle elde edilen resim türüne ne ad verilir?

- A) Fresko
- B) Mozaik
- C) Vitray
- D) Rölyef
- E) Gravür

15. İvriz Kaya Kabartması günümüzde hangi ilimizin sınırları içinde yer alır?

- A) Nevşehir
- B) Antalya
- C) Burdur
- D) Konya
- E) Eskişehir

16. Anadolu sanatında önemli bir yeri olan Hitit Uygarlığının ünlü başkenti, aşağıdakilerden hangisidir?

- A) Gordion
- B) Sard
- C) Hattuşaş
- D) Tuşpa
- E) Cerablus

17. İmparator Hadrianus döneminde M.S.2.yüzyılda yaptırılan yuvarlak planlı Panteon tapınağı aşağıdaki şehirlerden hangisinde yer alır?

- A) Napoli
- B) Roma
- C) Venedik
- D) Floransa
- E) Milano

18. Aşağıdakilerden hangisi endüstriyel sanatlardan biri değildir?

- A) Demircilik
- B) Kuyumculuk
- C) Sinema
- D) Dokumacılık
- E) Kunduracılık

19. Aşağıdakilerden hangisi, İlk Çağda Anadolu'da kurulan devletlerden biri değildir?

- A) Hititler
- B) Lidyalılar
- C) Frigyalılar
- D) Urartular
- E) Asurlular

20. Maden aletlerinin yanı sıra taş aletlerinin de kullanılmaya devam edilmesinden dolayı bu çağa "Maden-Taş Çağı" denilmiştir.

Bu çağın diğer ismi aşağıdakilerden hangisidir?

- A) Neolitik Çağ
- B) Maden Çağı
- C) Kalkolitik Çağ
- D) Mezolitik Çağ
- E) Paleolitik Çağ

SEÇMELİ TÜRK EDEBİYATI 4

B

2012 3D 0101-B

1. Kırgızların geleneklerini, ahlak ve aile hayatlarını, dünya ve hayat görüşlerini anlatan destan aşağıdakilerden hangisidir?

A) Türeyiş
B) Oğuz Kağan
C) Manas
D) Göç
E) Şu

2. Beş mesnevinin bir araya getirilmesiyle meydana gelen eserlere ne ad verilir?

A) Tezkire
B) Müstezât
C) Münşeat
D) Musammat
E) Hamse

3. Aşağıdakilerden hangisi Divan şiirinin özelliklerinden biri değildir?

A) Nazım biriminin genelde beyit olması
B) Dilinin ağır, anlatımının sanatlı olması
C) Aruz ölçüsü kullanılması
D) Tam ve zengin uyak kullanılması
E) Sözlü geleneğe dayanması

4. Aşağıdakilerden hangisi Divan edebiyatı nazım şekillerinden biridir?

A) Koşma
B) Mânî
C) Türkü
D) Kaside
E) Destan

5. İlk İslâmî ürünlerimizden Divân-ı Lûgatî't-Türk'ün yazarı kimdir?

A) Edip Ahmet Yüknêkî
B) Yusuf Has Hacıp
C) Kaşgarlı Mahmut
D) Hoca Ahmet Yesevî
E) Hacı Bektaş Velî

6. Divan edebiyatında şairlerin kendilerini övme geleneği vardı. Kaside nazım şekli içinde şairin kendini övdüğü bölüme ne ad verilir?

A) Medhiye
B) Fahriye
C) Mersiye
D) Girizgâh
E) Tegazzül

7. Dede Korkut Hikayeleri ile ilgili olarak aşağıdakilerden hangisi söylenemez?

A) Müslüman Oğuzların iç ve dış savaşlarının anlatıldığı
B) XV. yüzyılda yazıya geçirildiği
C) Biri Dresten'de diğeri Vatikan'da olmak üzere iki nüshasının bulunduğu
D) Yazarının Dede Korkut olduğu
E) Eserde doğaüstü varlıkların da yer aldığı

8. Bed-asla necabet mi verir hiç üniforma
Zer-dûz palan ursan eşek yine eşektir.

Ziya Paşa'nın bu beyitinde vurgulanmak istenen aşağıdakilerden hangisidir?

A) Asalet insanın özündedir.
B) Üniforma insana soyluluk verir.
C) Yeryüzünde mayası bozuk olanlar da vardır.
D) Eşek'in değeri üstüne vurulan eyer kadardır.
E) Aslı kötü olanlar üniforma giyemez.

9. Aşağıdakilerden hangisi XIV. yüzyıl Divan şairi Ahmedî'nin eseridir?

A) Risaletü'n-Nushiyye
B) Cemşid ü Hurşit
C) Leylâ vü Mecnun
D) Arzu ile Kamber
E) Tahir ile Zühre

10. Aşağıdakilerden hangisi kahramanlık hikâyelerinden biridir?

A) Köroğlu
B) Hayriye
C) Kerem ile Aslı
D) Âşık Garip
E) Lütfiye

11. Gazel nazım şeklinin en güzel beyitine ne ad verilir?

A) Makta beyit
B) Yek-âvaz gazel
C) Musammat gazel
D) Matla beyit
E) Beytül-gazel

B

2012 3D 0101-B

12. Aşağıdakilerden hangisi dinî-tasavvufî konulu şiirlerden biri değildir?

- A) Hikmet
- B) Nefes
- C) Devriye
- D) Şathiye
- E) Gazel

13. Aşağıdakilerden hangisi ilk islami eserlerimizden biri değildir?

- A) Cemşid ü Hurşid
- B) Kutadgu Bilig
- C) Atabetü'l – Hakâyık
- D) Divân-ü Lûgatî't-Türk
- E) Divân-ı Hikmet

14. Su akar güldür güldür
Mendilim dolu güldür
Yeri göğü yaratan
Ne olur beni güldür

Yukarıdaki mânide sesteş sözcüklerle yapılan uyak, aşağıdakilerden hangisidir?

- A) Tam uyak
- B) Yarım uyak
- C) Zengin uyak
- D) Cinaslı uyak
- E) Tunç uyak

15. Allah'a yakarışı işleyen, başışlanmayı dileyen şiirlere ne ad verilir?

- A) Naat
- B) Tevhit
- C) Münacaat
- D) Kaside
- E) Hicviye

16. Aşağıdakilerden hangisi orta oyunu tiplerinden biridir?

- A) Pişekâr
- B) Karagöz
- C) Külhanbeyi
- D) Hacivat
- E) Tuzsuz Deli Bekir

17. Anonim halk şiiri örneği olup genellikle dört dizeden oluşan, 7'li hece ölçüsüyle söylenen, aaba şeklinde uyaklanan nazım şekline ne ad verilir?

- A) Koşma
- B) Semaî
- C) Mânî
- D) Mesnevî
- E) Türkü

18. Arapça ve Farsçanın Türkçe üzerinde baskı oluşturduğu bir dönemde "Bugünden sonra divanda, dergâhta, bargâhta, mecliste, meydanda Türkçeden başka dil kullanılmayacaktır." diyerek bir fermanla dilimize sahip çıkmak isteyen devlet adamı kimdir?

- A) Sokullu Mehmet Paşa
- B) Karamanoğlu Mehmet Bey
- C) Yavuz Sultan Selim
- D) Kanuni Sultan Süleyman
- E) Fatih Sultan Mehmet

19. XVII. yüzyıl Osmanlı İmparatorluğu'nun çok yönlü yazarlarından ve düşünürlerindendir. Bilim dünyasına ışık tutan çok önemli eserler bırakmıştır. Cihannüma, Fezleke, Keşfü'z-zünun eserlerinden bazılarıdır.

Yukarıda kısaca tanıtılan ünlü bilgin kimdir?

- A) Mütercim Asım
- B) Süleyman Çelebi
- C) Evliya Çelebi
- D) Kâtip Çelebi
- E) Sehî Bey

20. Kültürel tarihimizi aydınlatacak düşüncelerin, toplumun değer yargılarının ele alınıp işlendiği "Siyasetnâme" türünün ilk örneği sayılan "Kutadgu Bilig" in yazarı kimdir?

- A) Hoca Ahmet Yesevî
- B) Yusuf Has Hacı
- C) Yunus Emre
- D) Hacı Bektaş Velî
- E) Edip Ahmet Yükneki

SEÇMELİ ALMANCA 6

B

2012 3D 0101-B

Bu testin cevaplarını, cevap anahtarında SEÇMELİ YABANCI DİL 6 sütununa işaretleyiniz.

1. A: Schreibst du einen Roman?
B: Nein, ich schreibe keinen Roman.
A:
B: Ach, das ist nur ein Gerücht!

Welches ergänzt den obigen Dialog?

Verilen karşılıklı konuşmayı aşağıdakilerden hangisi tamamlar?

- A) Ich dachte, wir könnten zusammen essen!
B) Wir lesen auch nicht sehr gern!
C) Man hat mir gesagt, dass es hier gute Romane zu kaufen gibt!
D) Ich glaube, dass das ein Kriminalroman ist!
E) Ich habe gehört, du schriebest einen Roman!

2. Wenn ich viel Geld, ich mir ein großes Auto kaufen.

Welche Wörter passen in die obigen Lücken?

Cümlede boş bırakılan yerleri aşağıdakilerden hangileri doğru şekilde tamamlar?

- A) hat / wirst
B) hätte / würde
C) hast / werden
D) habe / wird
E) hatten / würdet

3. A:, du wärst heute in Hawaii?
B: Das wäre ja super. Ich würde immer schwimmen!

Welches ergänzt die Lücke im obigen Dialog?

Verilen karşılıklı konuşmada boş bırakılan yeri aşağıdakilerden hangisi tamamlar?

- A) Lauf schneller
B) Kommt mit
C) Hatte sie gewusst
D) Hängt an
E) Stell dir vor

4. A: Wo wart ihr gestern Abend?
B: Wir waren bei unseren Freunden.
A:
B: Nein, wir wollten nicht tanzen!

Welches ergänzt den obigen Dialog?

Verilen karşılıklı konuşmayı aşağıdakilerden hangisi tamamlar?

- A) Ich dachte mir, dass wir ins Kino gehen!
B) Ich habe keine Zeit zum Tanzen.
C) Ich dachte ihr wärt zum Tanzen gegangen.
D) Ich gehe gerne Tanzen.
E) Ich möchte auch gerne mitkommen.

5. der Versammlung gehe ich nach Hause.

Welches Wort paßt in die obige Lücke?

Cümlede boş bırakılan yeri aşağıdakilerden hangisi doğru şekilde tamamlar?

- A) Zu
B) Für
C) Auf
D) Nach
E) Seit

6. Sie hätte sehr gern ein Kleid.

Welches Wort paßt in die obige Lücke?

Cümlede boş bırakılan yeri aşağıdakilerden hangisi doğru şekilde tamamlar?

- A) neuen
B) neuer
C) neuem
D) neues
E) neu

B

2012 3D 0101-B

7. Der Chef sagt, wir morgen keine Arbeit.

Welche Wörter passen in die obigen Lücken?

Cümlede boş bırakılan yerleri aşağıdakilerden hangileri doğru şekilde tamamlar?

- A) hätten
- B) hatte
- C) hättest
- D) habest
- E) hattet

8. Was hast du über deinen Freund gehört?

Welche Antwort paßt zur obigen Frage?

Verilen sorunun cevabı aşağıdakilerden hangisidir?

- A) Ich bin immer krank geworden.
- B) Sie wollte auch an der Versammlung teilnehmen.
- C) Er hat gesagt, dass er am Wochenende kommen will.
- D) Wir möchten nicht mehr darüber sprechen.
- E) Ich habe gehört, er habe wieder geheiratet.

9. A: Kommt deine Mutter auch mit ins Kino?
B:
A: Das ist aber Schade!

Welches ergänzt den obigen Dialog?

Verilen karşılıklı konuşmayı aşağıdakilerden hangisi tamamlar?

- A) Nein, sie habe keine Lust ins Kino zu gehen.
- B) Ja, ich habe ihn abgeholt.
- C) Nein, ich kenne sie überhaupt nicht.
- D) Ja, das Buch hatte ich auch gelesen.
- E) Nein, die Geschäfte sind heute geschlossen.

10. Ich habe aus der Zeitung, es werde heute ein schönes Wetter.

Welches Wort paßt in die obige Lücke?

Cümlede boş bırakılan yeri aşağıdakilerden hangisi doğru şekilde tamamlar?

- A) auffallen
- B) erfahren
- C) sondern
- D) einfallen
- E) beenden

11. Was bedeutet "birine bakmak" auf deutsch?

"birine bakmak" sözcüğünün Almancası aşağıdakilerden hangisidir?

- A) jemanden kennen
- B) allen helfen
- C) alle ansprechen
- D) jeden einladen
- E) jemanden versorgen

12. Sie sagte mir,

Welches ergänzt nicht die Lücke im obigen Satz?

Verilen cümleyi aşağıdakilerden hangisi tamamlamaz?

- A) wird die Prüfung bestehen.
- B) die Banken seien durchgehend geschlossen.
- C) der Lehrer sei krank und liege im Bett.
- D) gestern habe es geregnet.
- E) der Film sei von einem türkischen Regisseur gedreht worden.

13. Man sagt, die Mannschaft Erfolg

Welche Wörter passen in die obigen Lücken?

Cümlede boş bırakılan yerleri aşağıdakilerden hangileri doğru şekilde tamamlar?

- A) würde / habe
- B) wird / hatte
- C) werde / haben
- D) wurde / hat
- E) wirst / hatten

2012 3D 0101-B

14. Ja, ich kenne den Käse, der aus Holland kommt.

Welche Frage paßt zur obigen Antwort?

Verilen cevabı gerektirecek soru aşağıdakilerden hangisidir?

- A) Hast du auch Hunger?
- B) Kann ich ein Kilo holländische Käse haben bitte?
- C) Kennst du den Käse, der aus Holland kommt?
- D) Kommt der Käse aus Holland oder aus England?
- E) Haben Sie hier Käse aus Holland?

15. Der Student,, hat eine Prüfung zu bestehen.

Welches ergänzt die Lücke im obigen Satz?

Verilen cümleyi aşağıdakilerden hangisi tamamlar?

- A) dem wir zusammen essen wollen
- B) der sehr nervös ist
- C) der du kennst
- D) deren Bücher hier sind
- E) denen Eltern in Urlaub sind

16. Die Dame, die nebenan wohnt,

Welches ergänzt die Lücke im obigen Satz?

Verilen cümleyi aşağıdakilerden hangisi tamamlar?

- A) wurden 10 Jahre alt.
- B) geschenkt bekommen
- C) arbeitet an der Hochschule.
- D) hattest viel Arbeit.
- E) gehört die Tasche.

17. Die Frau, der die Tasche gehört, ist blond.

Wie lautet der obige Satz auf türkisch?

Verilen cümlelerin Türkçesi aşağıdakilerden hangisidir?

- A) Sarışın kadın çanta almak istiyor.
- B) Esmer kadının çantası kayboldu.
- C) Çanta almak isteyen kadının saçları kısa.
- D) Çantanın sahibi olan kadın sarışın.
- E) Çantayı alan kadın saçını da boyatmak istiyor.

18. Der Döner, der eine aus der Türkei ist, schmeckt sehr gut.

Welches Wort paßt in die obige Lücke?

Cümlede boş bırakılan yeri aşağıdakilerden hangisi doğru şekilde tamamlar?

- A) Spezialität
- B) Geschmack
- C) Essen
- D) Landbrot
- E) Getränk

19. Bana hediye ettiğin dolmakalemi çok beğendim.

Wie lautet der obige Satz auf deutsch?

Verilen cümlelerin Almancası aşağıdakilerden hangisidir?

- A) Die Geschenke, die nur Füller sind, hätten für dich sein können.
- B) Der Füller, den du mir geschenkt hast, hat mir sehr gut gefallen.
- C) Das Geschenk, das ich gekauft habe, ist ein Füller.
- D) Das Geschenk, das für mich sein soll, kann ein Füller sein.
- E) Der Füller, den ich in der Schule gefunden habe, ist teuer.

20. Der Bus,, hat sich verspätet.

Welches ergänzt die Lücke im obigen Satz?

Verilen cümleyi aşağıdakilerden hangisi tamamlar?

- A) dem ich pünktlich ankam
- B) denen wir die Fahrkarten geben
- C) den wir nehmen wollen
- D) der nach Adana fährt
- E) das heute Abend abfährt

SEÇMELİ FRANSIZCA 6

B

2012 3D 0101-B

Bu testin cevaplarını, cevap anahtarında
SEÇMELİ YABANCI DİL 6 sütununa
işaretleyiniz.

1. En général, je me à 23 heures.

Choisissez le mot qui convient.

Cümledeki boşluğu aşağıdakilerden hangisi
doğru şekilde tamamlar?

- A) promené
- B) rencontré
- C) tombé
- D) suis
- E) couche

2. C'est le fils de mon oncle, c'est mon

Choisissez le mot qui convient.

Cümledeki boşluğu aşağıdakilerden hangisi
doğru şekilde tamamlar?

- A) tante
- B) cousin
- C) gendre
- D) fiancé
- E) nièce

3. Une famille turque au moyenne de
quatre ou cinq personnes.

Choisissez le mot qui convient.

Cümledeki boşluğu aşağıdakilerden hangisi
doğru şekilde tamamlar?

- A) se marie
- B) invité
- C) se passe
- D) dépend
- E) se compose

4. Elle veut se marier Paul.

Choisissez le mot qui convient.

Cümledeki boşluğu aşağıdakilerden hangisi
doğru şekilde tamamlar?

- A) en
- B) de
- C) avec
- D) à
- E) sans

5. Bu mektup Gamze'ye Erkin tarafından yazıldı.

Choisissez la traduction qui convient.

Yukarıdaki cümlelerin Fransızca karşılığı
aşağıdakilerden hangisidir?

- A) Erkin écrira une lettre à Gamze.
- B) Erkin a écrit cette lettre à Gamze.
- C) Cette lettre est écrite par Erkin à Gamze.
- D) Cette lettre a été écrite à Gamze par Erkin.
- E) Cette lettre sera écrite à Gamze par Erkin.

6. Ne levez pas tard les matins.

Choisissez le mot qui convient.

Cümledeki boşluğu aşağıdakilerden hangisi
doğru şekilde tamamlar?

- A) nous
- B) te
- C) le
- D) vous
- E) toi

7. Une lettre sera écrite Paul Mehmet.

Choisissez les mots qui conviennent.

Cümledeki boşlukları aşağıdakilerden
hangisi doğru şekilde tamamlar?

- A) à / par
- B) une / à
- C) de / par
- D) de / à
- E) à / chez

B

2012 3D 0101-B

8. Elle n'a pas été reçue au Bac; elle est
au lycée.

Choisissez le mot qui convient.

**Cümledeki boşluğu aşağıdakilerden hangisi
doğru şekilde tamamlar?**

- A) bachelier
- B) facile
- C) travail
- D) médecine
- E) encore

9. -
- Je suis instituteur.

Choisissez la question qui convient.

**Yukarıdaki konuşmada cevabı gerektiren
soru aşağıdakilerden hangisidir?**

- A) Quel est votre métier?
- B) Comment s'appelle cet examen?
- C) Que peut-on faire, après cet examen?
- D) Qu'est-ce que tu as fait l'été dernier?
- E) Est-ce que vous étudiez en médecine?

10. Ne promène pas dans le jardin.

Choisissez le mot qui convient.

**Cümledeki boşluğu aşağıdakilerden hangisi
doğru şekilde tamamlar?**

- A) vous
- B) te
- C) tu
- D) toi
- E) nous

11. Aie fini tes devoirs avant le dîner.

Choisissez la traduction qui convient.

**Yukarıdaki cümlelerin Türkçe karşılığı
aşağıdakilerden hangisidir?**

- A) Önce ödevlerini yap, sonra akşam yemeğini ye.
- B) Ödevlerini bitir, akşam yemeği için dışarı çıkalm.
- C) Akşam yemeğinden sonra ödevlerini bitir.
- D) Akşam yemeğine kadar ödevlerini yap.
- E) Akşam yemeğinden önce ödevlerini bitirmiş ol.

12. A condition faire mes devoirs, je
pourrai aller au théâtre.

Choisissez le mot qui convient.

**Cümledeki boşluğu aşağıdakilerden hangisi
doğru şekilde tamamlar?**

- A) de
- B) à
- C) en
- D) y
- E) qui

13. Mon ami a acheté cette chemise.

**Choisissez la forme passive de la phrase
ci-dessus.**

**Yukarıdaki cümlelerin edilgen hali
aşağıdakilerden hangisidir?**

- A) Cette chemise sera acheté par mon ami.
- B) Cette chemise est acheté par mon ami.
- C) Cette chemise a été acheté par mon ami.
- D) Cette chemise était acheté par mon ami.
- E) Cette chemise achetait par mon ami.

14. Pensez votre père; il est assez agé pour
travailler.

Choisissez le mot qui convient.

**Cümledeki boşluğu aşağıdakilerden hangisi
doğru şekilde tamamlar?**

- A) y
- B) toi
- C) à
- D) de
- E) en

15. Il a un cadeau à sa soeur.

Choisissez le mot qui convient.

**Cümledeki boşluğu aşağıdakilerden hangisi
doğru şekilde tamamlar?**

- A) préféré
- B) envoyé
- C) ramassé
- D) imprimé
- E) invité

2012 3D 0101-B

16. une cravate pour ton père!

Choisissez le mot qui convient.

Cümledeki boşluğu aşağıdakilerden hangisi doğru şekilde tamamlar?

- A) Sera
- B) Sortant
- C) Achète
- D) Organise
- E) Sois

17. Attendez cinq minutes.

Choisissez la traduction qui convient.

Yukarıdaki cümlelerin Türkçe karşılığı aşağıdakilerden hangisidir?

- A) Hemen geçiniz.
- B) Beş dakikalık bir iş.
- C) Beş dakika zamanınız var.
- D) Beş dakika bekleyiniz.
- E) Zamanı iyi kullanmalısınız.

18. plus fort, je n'entends rien.

Choisissez le mot qui convient.

Cümledeki boşluğu aşağıdakilerden hangisi doğru şekilde tamamlar?

- A) Parlez
- B) Manges
- C) Vas-y
- D) Tiens
- E) Travaillez

19. C'est un enfant bien élevé.Choisissez l'antonyme du mot souligné.Yukarıdaki cümlede altı çizili kelimenin zıt anlamlısı aşağıdakilerden hangisidir?

- A) bon
- B) mal
- C) gentil
- D) belle
- E) meilleur

20. -

- Non, j'étudie en lettres.

Choisissez la question qui convient.

Yukarıdaki konuşmada cevabı gerektiren soru aşağıdakilerden hangisidir?

- A) Quand est-ce que tu as reçu au Bac?
- B) Est-ce que tu es bachelier?
- C) Est-ce que tu as trouvé un travail?
- D) Est-ce que tu étudies en médecine?
- E) Pourquoi as-tu abandonné tes études?

SEÇMELİ İNGİLİZCE 6

B

2012 3D 0101-B

Bu testin cevaplarını, cevap anahtarında SEÇMELİ YABANCI DİL 6 sütununa işaretleyiniz.

1. Kate drinks coffee every morning.

Which of the following is the negative form of the sentence above?

Aşağıdakilerden hangisi yukarıdaki cümlelerin olumsuz biçimidir?

- A) Kate didn't drink coffee every morning.
- B) Kate isn't drinking coffee every morning.
- C) Kate hasn't drunk coffee every morning.
- D) Kate wasn't drinking coffee every morning.
- E) Kate doesn't drink coffee every morning.

2. The baby now. The baby for ten hours every day.

Which of the following completes the sentences above?

Aşağıdakilerden hangisi yukarıdaki cümleleri doğru olarak tamamlar?

- A) was sleeping/slept
- B) is sleeping/sleeps
- C) have slept/sleep
- D) is going to sleep/slept
- E) sleep/is sleeping

3. I will go to Ankara Wednesday.

Which of the following completes the sentence above?

Aşağıdakilerden hangisi yukarıdaki cümleyi doğru olarak tamamlar?

- A) in
- B) under
- C) at
- D) between
- E) on

4. What did he do last night?

Which of the following can be the answer to the question above?

Aşağıdakilerden hangisi yukarıdaki sorunun yanıtı olabilir?

- A) He is going to study English.
- B) He has studied English.
- C) He studied English.
- D) He is studying English.
- E) He studies English.

5. The students will be a test this time tomorrow.

Which of the following completes the sentence above?

Aşağıdakilerden hangisi yukarıdaki cümleyi doğru olarak tamamlar?

- A) take
- B) took
- C) has taken
- D) taking
- E) taken

6. I always watch TV the evening.

Which of the following completes the sentence above?

Aşağıdakilerden hangisi yukarıdaki cümleyi doğru olarak tamamlar?

- A) on
- B) for
- C) to
- D) in
- E) at

B

2012 3D 0101-B

7. Türk Devleti toprağı ve halkı ile bölünmez bir bütündür.

Which of the following is the English translation of the sentence above?

Aşağıdakilerden hangisi yukarıdaki cümlelin İngilizce karşılığıdır?

- A) The Turkish State is an indivisible whole comprising its territory and people.
- B) It is only the republican regime which can best represent the wishes of people.
- C) Through reformism, Turkey can reach level of contemporary civilization.
- D) The state should support the private enterprise
- E) The modernization of Turkey is dependent on economic and technological development.

8. The State should support the private enterprise.

Which of the following is the Turkish translation of the sentence above?

Aşağıdakilerden hangisi yukarıdaki cümlelin Türkçe karşılığıdır?

- A) Ekonomik kalkınmanın gerçekleşmesi için özel sektörün gelişmesi gerekir.
- B) Devletçilik ilkesi, özel sektöre karşı çıkar.
- C) Özel sektör, devleti desteklememelidir.
- D) Devlet, özel sektörü desteklememelidir.
- E) Devlet, özel sektöre destek vermelidir.

9. That hotel is always full. It very cheap.

Which of the following completes the sentence above?

Aşağıdakilerden hangisi yukarıdaki cümleyi doğru olarak tamamlar?

- A) must be
- B) will be
- C) should be
- D) ought
- E) must have been

10. I hadn't seen Bob we met at Mary's party last month.

Which of the following completes the sentence above?

Aşağıdakilerden hangisi yukarıdaki cümleyi doğru olarak tamamlar?

- A) after
- B) until
- C) yet
- D) just
- E) already

11. John: Did you watch the movie yesterday?
Liz : No, I didn't. The movie had already when I at the cinema.

Which of the following completes the dialogue above?

Aşağıdakilerden hangisi yukarıdaki konuşmayı doğru olarak tamamlar?

- A) finishes / arrive
- B) finish / arrived
- C) finish / arrive
- D) finished / had arrived
- E) finished / arrived

12. I wish I in İstanbul now.

Which of the following completes the sentence above?

Aşağıdakilerden hangisi yukarıdaki cümleyi doğru olarak tamamlar?

- A) were
- B) can be
- C) must be
- D) should be
- E) am

2012 3D 0101-B

13. I told her a lie. That was a mistake.
I wish I her a lie.

Which of the following completes the sentence above?

Aşağıdakilerden hangisi yukarıdaki cümleyi doğru olarak tamamlar?

- A) couldn't tell
- B) don't tell
- C) hadn't told
- D) didn't tell
- E) haven't told

14. Mary's mother, knows three languages, is a famous professor.

Which of the following completes the sentence above?

Aşağıdakilerden hangisi yukarıdaki cümleyi doğru olarak tamamlar?

- A) where
- B) whom
- C) who
- D) whose
- E) which

15. I am going to go to İstanbul July.

Which of the following completes the sentence above?

Aşağıdakilerden hangisi yukarıdaki cümleyi doğru olarak tamamlar?

- A) at
- B) in
- C) on
- D) between
- E) by

16. If he had set his alarm, he late for work.

Which of the following completes the sentence above?

Aşağıdakilerden hangisi yukarıdaki cümleyi doğru olarak tamamlar?

- A) could have been
- B) would be
- C) wouldn't have been
- D) can't be
- E) mustn't be

17. Turkey is a country has coasts along three different seas.

Which of the following completes the sentence above?

Aşağıdakilerden hangisi yukarıdaki cümleyi doğru olarak tamamlar?

- A) who
- B) whom
- C) where
- D) which
- E) when

18. If I you, I wouldn't wash the dishes.

Which of the following completes the sentence above?

Aşağıdakilerden hangisi yukarıdaki cümleyi doğru olarak tamamlar?

- A) were
- B) can be
- C) could be
- D) could have been
- E) must be

19. Mozart is a very famous composer operas are well known everywhere.

Which of the following completes the sentence above?

Aşağıdakilerden hangisi yukarıdaki cümleyi doğru olarak tamamlar?

- A) where
- B) whose
- C) which
- D) who
- E) whom

20. John a new car by this time next year.

Which of the following completes the sentence above?

Aşağıdakilerden hangisi yukarıdaki cümleyi doğru olarak tamamlar?

- A) is buying
- B) bought
- C) buys
- D) will have bought
- E) has bought

SEÇMELİ ALMANCA 5

B

2012 3D 0101-B

Bu testin cevaplarını, cevap anahtarında SEÇMELİ YABANCI DİL 5 sütununa işaretleyiniz.

1. Wie lautet die Grundform von "am meisten"?

"am meisten" sözcüğünün mastar hali aşağıdakilerin hangisinde doğru olarak verilmiştir?

- A) viel
- B) lieb
- C) mehr
- D) gut
- E) gem

2. Der Mercedes ist schnell, der BMW ist schneller als der Mercedes. Aber der Porsche ist

Welches Wort paßt in die obige Lücke?

Cümlede boş bırakılan yeri aşağıdakilerden hangisi doğru şekilde tamamlar?

- A) am schnellsten
- B) schnellste
- C) schnell wie
- D) schnellstes
- E) am schneller

3. Ahmet ist 18 Jahre alt und Serdar ist 22 Jahre alt. Ahmet ist Serdar.

Welches Wort paßt in die obige Lücke?

Cümlede boş bırakılan yeri aşağıdakilerden hangisi doğru şekilde tamamlar?

- A) tüchtigster als
- B) klein wie
- C) jünger als
- D) so jung
- E) jünger

4. Wie lautet das Wort "Finanzielle Unterstützung" auf türkisch?

"Finanzielle Unterstützung" sözcüğünün Türkçe karşılığı aşağıdakilerden hangisidir?

- A) Maddi destek
- B) Bireysel bağımsızlık
- C) Bireysel gerçekleşme
- D) Kişisel çıkarlar
- E) Toplumsal harcamalar

5. Verkehrspolizisten werden, um den Verkehr zu ordnen.

Welches Wort paßt in die obige Lücke?

Cümlede boş bırakılan yeri aşağıdakilerden hangisi doğru şekilde tamamlar?

- A) durchgesetzt
- B) ausgeführt
- C) geöffnet
- D) gerufen
- E) eingesetzt

6. Frau Krüger:
Sohn: Ich bin gekommen, weil ich Taschengeld brauche.
Frau Krüger: Ach ja, das habe ich vergessen!
Hier hast du dein Geld!
Sohn: Danke!

Welches ergänzt den obigen Dialog?

Verilen karşılıklı konuşmayı aşağıdakilerden hangisi tamamlar?

- A) Wohin gehst du?
- B) Wie lange dauert die Schule?
- C) Wann machst du deine Hausaufgaben?
- D) Wo ist deine Tasche?
- E) Warum bist du gekommen?

B

2012 3D 0101-B

7. Die Angestellten in einer Bank können sich in der Pause

Welches Wort paßt in die obige Lücke?

Cümlede boş bırakılan yeri aşağıdakilerden hangisi doğru şekilde tamamlar?

- A) rechnen
- B) arbeiten
- C) ausruhen
- D) anfangen
- E) öffnen

8. Die Herbstmonate sind

Welches ergänzt die Lücke im obigen Satz?

Verilen cümleyi aşağıdakilerden hangisi tamamlar?

- A) der September, der Oktober, der November.
- B) der März, der April, der Mai.
- C) der Dezember, der Januar, der Februar.
- D) der Juni, der Juli, der August.
- E) der Juni, der Juli, der September.

9. Die Angestellten arbeiten von 8.00 Uhr bis 17.30 Uhr.

Welche Frage paßt zur obigen Antwort?

Verilen cevabı gerektirecek soru aşağıdakilerden hangisidir?

- A) Wie lange dauert diese Arbeit?
- B) Wo arbeiten sie?
- C) Wie lange arbeiten die Angestellten?
- D) Wann ist diese Firma geöffnet?
- E) Was machen hier die Angestellten?

10. Du kannst dir ein Auto kaufen, das neu auf dem Markt ist.

Welches Wort paßt in die obige Lücke?

Cümlede boş bırakılan yeri aşağıdakilerden hangisi doğru şekilde tamamlar?

- A) gekauft
- B) erfahren
- C) absolviert
- D) behaupten
- E) erschienen

11., würde ich schlafen.

Welches ergänzt nicht die Lücke im obigen Satz?

Verilen cümleyi aşağıdakilerden hangisi tamamlamaz?

- A) Wenn ich jetzt auf einer Insel wäre
- B) Wenn ich keine Hausaufgaben hätte
- C) Wenn ich Zeit hätte
- D) Wenn du mitkommen kannst
- E) Wenn ich jetzt zu Hause wäre

12. Gehört das Buch nicht deiner Mutter?

Welche Antwort paßt zur obigen Frage?

Verilen sorunun cevabı aşağıdakilerden hangisidir?

- A) Ja, meine Mutter will sich ein Buch kaufen.
- B) Nein, meine Mutter ist zu Hause.
- C) Ja, mein Buch habe ich in der Schule vergessen.
- D) Nein, das Buch habe ich schon gelesen.
- E) Nein, das Buch gehört nicht meiner Mutter.

13. Hasta olduğu söyleniyor.

Wie lautet der obige Satz auf deutsch?

Verilen cümlelerin Almancası aşağıdakilerden hangisidir?

- A) Sie wäre krank und wäre nach Hause gegangen.
- B) Man sagt, sie sei krank.
- C) Man hat gehört, sie wäre krank.
- D) Sie wäre krank gewesen.
- E) Sie sei heute krank geworden.

2012 3D 0101-B

14. Der Roman ist von einem weltberühmten Schriftsteller geschrieben worden.

Welches ist die Konjunktiv-Form vom obigen Satz?

Verilen cümlelerin Konjunktif hali aşağıdakilerin hangisinde doğru olarak verilmiştir?

- A) Man hat zu mir gesagt, dass der Schriftsteller des Romans weltberühmt sein kann.
- B) Man sagt, der Roman sei von einem weltberühmten Schriftsteller geschrieben worden.
- C) Man hat mir gesagt, dass der Roman von einem berühmten Schriftsteller geschrieben wird.
- D) Man sagte, die Schriftsteller des Romans seien sehr berühmt.
- E) Man hatte mir gesagt, dass der Roman von einem weltberühmten Schriftsteller geschrieben sein könnte.

15. Was bedeutet "Başarılı olmak" auf deutsch?

"Başarılı olmak" sözcüğünün Almancası aşağıdakilerden hangisidir?

- A) Glücklich sein
- B) Verletzt sein
- C) Erfahren können
- D) Erfolg haben
- E) Ernst sein

16. Der Film war sehr interessant. Er ist in diesem Jahr

Welches Wort paßt in die obige Lücke?

Cümlede boş bırakılan yeri aşağıdakilerden hangisi doğru şekilde tamamlar?

- A) gefördert worden
- B) bekommen können
- C) gestartet sein
- D) gedreht worden
- E) bestehen können

17. versorgen / zu / ich / noch / habe / Familie / eine

Wie kann man mit den obigen Wortgruppen einen vollständigen Satz bilden?

Verilen sözcük gruplarıyla kurulabilecek en anlamlı ve doğru cümle aşağıdakilerden hangisidir?

- A) Zu versorgen ich habe Familie noch eine.
- B) Habe zu versorgen Familie ich eine noch.
- C) Ich habe noch eine Familie zu versorgen.
- D) Eine Familie versorgen noch zu habe ich.
- E) Noch zu versorgen eine Familie ich habe.

18. Die Banken waren gestern geschlossen.

Wie lautet der obige Satz auf türkisch?

Verilen cümlelerin Türkçesi aşağıdakilerden hangisidir?

- A) Banka yarın kapalı olacak.
- B) Bankalar geçici olarak kapatılmış.
- C) Bankalar hafta sonları kapalıdır.
- D) Bankalar dün kapalıydı.
- E) Bankaya dün hiç kimse giremedi.

19. Das Mädchen, das du gestern kennen gelernt hast,

Welches ergänzt den obigen Satz?

Verilen cümleyi aşağıdakilerden hangisi doğru olarak tamamlar?

- A) kommen immer zu uns.
- B) wohnt nebenan.
- C) der du ein Buch geschenkt hast.
- D) neu verheiratet ist.
- E) sind sehr reich.

20. arbeitet privat.

Welches Wort paßt in die obige Lücke?

Cümlede boş bırakılan yeri aşağıdakilerden hangisi doğru şekilde tamamlar?

- A) Diese Frauen
- B) Der Arzt
- C) Die Männer
- D) Die Kinder
- E) Dessen Mütter

SEÇMELİ FRANSIZCA 5

B

2012 3D 0101-B

Bu testin cevaplarını, cevap anahtarında SEÇMELİ YABANCI DİL 5 sütununa işaretleyiniz.

1. On peut pique-niquer en forêt quand

Complétez la phrase avec la proposition qui convient.

Yukarıdaki cümleyi aşağıdaki ifadelerden hangisi doğru şekilde tamamlar?

- A) il fait beau.
- B) il pleut.
- C) il neige.
- D) il y a du vent.
- E) il fait du gris.

2. La femme vient est ma tante.

Choisissez le mot qui convient.

Cümledeki boşluğu aşağıdakilerden hangisi doğru şekilde tamamlar?

- A) qui
- B) que
- C) où
- D) dont
- E) pas

3. -
- Oui, je joue au basket chaque semaine.

Choisissez la question qui convient.

Yukarıdaki konuşmada cevabı gerektiren soru aşağıdakilerden hangisidir?

- A) Depuis quand vous pratiquez ce sport?
- B) Pourquoi vous ne pratiquez pas un sport?
- C) Vous pratiquez régulièrement un sport?
- D) Vous jouez au tennis?
- E) Quel sport aimez-vous?

4. Monique un championnat de ping-pong chaque samedi.

Choisissez le mot qui convient.

Cümledeki boşluğu aşağıdakilerden hangisi doğru şekilde tamamlar?

- A) organise
- B) veut
- C) passe
- D) va
- E) joue

5. Elle prend son petit déjeuner en la radio.

Choisissez le mot qui convient.

Cümledeki boşluğu aşağıdakilerden hangisi doğru şekilde tamamlar?

- A) étant
- B) partant
- C) ayant
- D) regardant
- E) écoutant

6. Elle a oublié son bagage main dans ma chambre.

Choisissez le mot qui convient.

Cümledeki boşluğu aşağıdakilerden hangisi doğru şekilde tamamlar?

- A) des
- B) où
- C) en
- D) d'une
- E) à

B

2012 3D 0101-B

7. les / j'aime / brillantes / lumières
I II III IV

Mettez dans le bon ordre.

Yukarıdaki kelimelerin anlamlı ve kurallı bir bütün oluşturan sırası aşağıdakilerin hangisini doğru olarak verilmiştir?

- A) I, III, IV, II
B) II, I, III, IV
C) II, I, IV, III
D) III, IV, II, I
E) III, IV, I, II

8. Pierre va faire du ski cet

Choisissez le mot qui convient.

Cümledeki boşluğu aşağıdakilerden hangisi doğru şekilde tamamlar?

- A) hiver
B) automne
C) printemps
D) sport
E) été

9. Elle a oublié son sac voyage.

Choisissez le mot qui convient.

Cümledeki boşluğu aşağıdakilerden hangisi doğru şekilde tamamlar?

- A) des
B) d'une
C) de
D) chez
E) en

10. Elle part vacances chaque été.

Choisissez le mot qui convient.

Cümledeki boşluğu aşağıdakilerden hangisi doğru şekilde tamamlar?

- A) de
B) à
C) y
D) les
E) en

11. Choisissez le synonyme du verbe "se distraire".

"Se distraire" fiilinin eşanlamlısı aşağıdakilerden hangisidir?

- A) se reposer
B) s'intéresser
C) s'entendre
D) s'amuser
E) s'ennuyer

12. Le pantolon j'ai acheté était trop cher.

Choisissez le mot qui convient.

Cümledeki boşluğu aşağıdakilerden hangisi doğru şekilde tamamlar?

- A) celui
B) où
C) qui
D) celle
E) dont

13. Des enfants obéissants venus.

Choisissez le mot qui convient.

Cümledeki boşluğu aşağıdakilerden hangisi doğru şekilde tamamlar?

- A) ayant
B) sont
C) en
D) est
E) étant

14. Il peut jouer piano.

Choisissez le mot qui convient.

Cümledeki boşluğu aşağıdakilerden hangisi doğru şekilde tamamlar?

- A) de
B) du
C) les
D) au
E) de la

2012 3D 0101-B

15. A : - Qu'est-ce que tu as fait hier soir?
B : -

Choisissez la réponse qui convient.

Yukarıdaki konuşmada boş bırakılan yeri aşağıdakilerden hangisi doğru şekilde tamamlar?

- A) J'aime la musique classique.
B) Je vais partir pour Paris.
C) J'habite à Paris.
D) Je suis allée au concert.
E) Je suis technicien.

16. Je vois un homme marchant dans la rue.

Choisissez la traduction qui convient.

Yukarıdaki cümlelerin Türkçe karşılığı aşağıdakilerden hangisidir?

- A) Bu, dün sokakta gördüğüm adama benziyor.
B) Bu adamı yürüyüşünden tanıdım.
C) Sokakta yürüyen bir adamı çiziyorum.
D) Sokakta yürüyen bir adam görüyorum.
E) Bir adamın sokak ortasında durduğunu gördüm.

17. La maison où ils habitaient était très vieille.

Choisissez la traduction qui convient.

Yukarıdaki cümlelerin Türkçe karşılığı aşağıdakilerden hangisidir?

- A) Bu ev yaşlıların kaldığı evdi.
B) Oturdıkları ev eski eşyalarla dolu.
C) Oturdıkları ev çok eskiydi.
D) Oturdıkları mahallede evler genelde eskiydi.
E) Eski bir evde oturuyorlar.

18. Tu partiras comment?, ou en groupe?

Choisissez le mot qui convient.

Cümledeki boşluğu aşağıdakilerden hangisi doğru şekilde tamamlar?

- A) Dégouter
B) Organiser
C) Quand
D) Seul
E) À l'étranger

19. malade, elle n'est pas allée à l'école.

Choisissez le mot qui convient.

Cümledeki boşluğu aşağıdakilerden hangisi doğru şekilde tamamlar?

- A) Faisant
B) Etant
C) Traversant
D) Marchant
E) Ayant

20. Tu sais bien qu'il est impossible de contenter tout le monde.

Choisissez la traduction qui convient.

Yukarıdaki cümlelerin Türkçe karşılığı aşağıdakilerden hangisidir?

- A) Çalışmaların herkesi memnun ediyor.
B) Herkesi memnun etmenin imkânsız olduğunu bilirsin.
C) Herkesin memnun olması için çalışıyorsun.
D) Herkesi memnun etmenin imkânsız olduğunu bilmekte fayda vardır.
E) İmkânsızlıklara rağmen bu işi başıyaman herkesi memnun etti.

SEÇMELİ İNGİLİZCE 5

B

2012 3D 0101-B

Bu testin cevaplarını, cevap anahtarında SEÇMELİ YABANCI DİL 5 sütununa işaretleyiniz.

1. Jane: Who translated this letter? You?
Mary: No. I got my friend it.

Which of the following completes the dialogue above?

Aşağıdakilerden hangisi yukarıdaki konuşmayı doğru olarak tamamlar?

- A) to translate
- B) translate
- C) translating
- D) translated
- E) is translated

2. They will postpone the meeting.

Which of the following is the passive voice of the sentence above?

Aşağıdakilerden hangisi yukarıdaki cümlelerin edilgen yapıda kurulmuş biçimidir?

- A) The meeting will be postponed.
- B) The meeting is postponed.
- C) The meeting was postponed.
- D) The meeting has been postponed.
- E) The meeting is being postponed.

3. If I had time, I my grandmother.

Which of the following completes the sentence above?

Aşağıdakilerden hangisi yukarıdaki cümleyi doğru olarak tamamlar?

- A) would have visited
- B) visited
- C) would visit
- D) visit
- E) visiting

4. I have to go to school tomorrow. I wish I to school tomorrow.

Which of the following completes the sentence above?

Aşağıdakilerden hangisi yukarıdaki cümleyi doğru olarak tamamlar?

- A) didn't have to go
- B) don't have to go
- C) should go
- D) must go
- E) have gone

5. Jack has already planted trees along the roads.

Which of the following is the passive voice of the sentence above?

Aşağıdakilerden hangisi yukarıdaki cümlelerin edilgen yapıda kurulmuş biçimidir?

- A) Trees will be planted along the roads by Jack.
- B) Trees are planted along the roads by Jack.
- C) Trees were being planted along the roads by Jack.
- D) Trees had already been planted along the roads by Jack.
- E) Trees have already been planted along the roads by Jack.

6. getting on the bus, he bought a ticket.

Which of the following completes the sentence above?

Aşağıdakilerden hangisi yukarıdaki cümleyi doğru olarak tamamlar?

- A) Whether
- B) Which
- C) Where
- D) So
- E) Before

B

2012 3D 0101-B

7. Nick told Mary, "I enjoyed the party last night." Nick told Mary that he the party the night before.

Which of the following completes the sentence above?

Aşağıdakilerden hangisi yukarıdaki cümleyi doğru olarak tamamlar?

- A) has enjoyed
- B) enjoyed
- C) had enjoyed
- D) was enjoying
- E) is enjoying

8. she heard the news, she began to cry.

Which of the following completes the sentence above?

Aşağıdakilerden hangisi yukarıdaki cümleyi doğru olarak tamamlar?

- A) As soon as
- B) The sooner
- C) Such
- D) So that
- E) Where

9. I used to milk when I was a child.

Which of the following completes the sentence above?

Aşağıdakilerden hangisi yukarıdaki cümleyi doğru olarak tamamlar?

- A) was drinking
- B) drunk
- C) drink
- D) is drinking
- E) have drunk

10. Jack listened to Mary the piano.

Which of the following completes the sentence above?

Aşağıdakilerden hangisi yukarıdaki cümleyi doğru olarak tamamlar?

- A) will play
- B) played
- C) plays
- D) has played
- E) playing

11. Mary : What shall we do tomorrow night?
Brenda : We go to a movie.

Which of the following completes the dialogue above?

Aşağıdakilerden hangisi yukarıdaki konuşmayı doğru olarak tamamlar?

- A) must have
- B) could have
- C) should have
- D) could
- E) ought

12. If it rains, we swimming.

Which of the following completes the sentence above?

Aşağıdakilerden hangisi yukarıdaki cümleyi doğru olarak tamamlar?

- A) haven't gone
- B) doesn't go
- C) aren't going
- D) didn't go
- E) won't go

13. He talk to his friend in class.

Which of the following completes the sentence above?

Aşağıdakilerden hangisi yukarıdaki cümleyi doğru olarak tamamlar?

- A) shall
- B) mustn't
- C) isn't
- D) does
- E) had

14. I haven't seen him years.

Which of the following completes the sentence above?

Aşağıdakilerden hangisi yukarıdaki cümleyi doğru olarak tamamlar?

- A) ago
- B) for
- C) since
- D) after
- E) now

2012 3D 0101-B

15. Jill : Who will the washing up?
Bob : Well, I won't.

Which of the following completes the dialogue above?

Aşağıdakilerden hangisi yukarıdaki konuşmayı doğru olarak tamamlar?

- A) has done
- B) doing
- C) done
- D) do
- E) does

16. If you have a cold, you see a doctor.

Which of the following completes the sentence above?

Aşağıdakilerden hangisi yukarıdaki cümleyi doğru olarak tamamlar?

- A) would
- B) ought
- C) should have
- D) should
- E) ought to have

17. Ken : Are you a teacher?

Sandy : Yes, I am.

Bob : What does Ken want to know?

Sandy : He wants to know if I a teacher.

Which of the following completes the dialogue above?

Aşağıdakilerden hangisi yukarıdaki konuşmayı doğru olarak tamamlar?

- A) were
- B) will be
- C) am
- D) have been
- E) had been

18. He in his room at nights.

Which of the following completes the sentence above?

Aşağıdakilerden hangisi yukarıdaki cümleyi doğru olarak tamamlar?

- A) works usually
- B) work usually
- C) usually work
- D) usually works
- E) usually working

19. Peter to music last night.

Which of the following completes the sentence above?

Aşağıdakilerden hangisi yukarıdaki cümleyi doğru olarak tamamlar?

- A) is going to listen
- B) listened
- C) will listen
- D) listen
- E) have listened

20. We painted the house by

Which of the following completes the sentence above?

Aşağıdakilerden hangisi yukarıdaki cümleyi doğru olarak tamamlar?

- A) themselves
- B) ourselves
- C) himself
- D) yourselves
- E) herself

SINAVDA UYGULANACAK KURALLAR

1. Sınav süresince görevlilerle konuşmak ve soru sormak yasaktır. Aynı şekilde görevlilerin de öğrencilerle yakından ve alçak sesle konuşmaları yasaktır. Yanınızda ve sıranızda dersle ilgili kitap not vb. bulundurmamak yasaktır. Sınav sırasında kopya yapan, yapmaya teşebbüs eden, kopya veren, kopya yapılmasına yardım edenlerin kimlikleri BİREYSEL SINAV İPTAL TUTANAĞINA yazılacak ve bu öğrencilerin sınavları geçersiz sayılacaktır. Görevliler kopya yapmaya veya vermeye kalkışanları uyarmak zorunda değildir, sorumluluk size aittir.
Sınavda yetki verilmiş görevliler, bu salondaki sınavın kurallara uygun biçimde yapılmadığını, toplu kopya girişiminde bulunulduğunu raporlarında bildirdikleri veya üniversite sınav merkezince yapılan incelemeler sonucu toplu kopya yapıldığı saptandığı takdirde, Anadolu Üniversitesinin yetkili organları bu salonda sınava giren öğrencilerin tümünün sınavını geçersiz sayar.
2. Öğrenciler sınav sırasında görevlilerin her türlü uyarılarına uymak zorundadır. Gerekğinde görevliler oturduğunuz yerleri değiştirebilir. Sınavınızın geçerli sayılması, her şeyden önce sınav kurallarına uymanıza bağlıdır. Kurallara aykırı davranışta bulunanların ve yapılacak uyarılara uymayanların kimlikleri BİREYSEL SINAV İPTAL TUTANAĞINA yazılacak ve sınavları geçersiz sayılacaktır.
3. Sınav sırasında herhangi bir nedenle dışarı çıkmak yasaktır. Sınavın başlamasını izleyen ilk 30 dakika ve sınav süresinin son 5 dakikası içinde, sınavlarını tamamlasalar bile hiçbir öğrencinin salondan çıkmasına izin verilmeyecektir. Sınavın başlamasını izleyen ilk 15 dakikadan sonra hiç bir öğrenci sınava alınamaz.
4. Biraz sonra soru kitapçıkları dağıtılacaktır. Cevaplamaya geçmeden önce size verilecek soru kitapçığının üzerinde ayrılan yere, adınızı, soyadınızı, öğrenci numaranızı ve bu salonun numarasını yazınız. Sınav sonunda soru kitapçıkları toplanacak ve sınav merkezinde tek tek incelenecektir. Soru Kitapçığının bir tek sayfası eksik çıksa bile sınavınız geçersiz sayılacaktır.
5. Size verilen Cevap Kâğıdının üzerinde yazan numara ve ismin size ait olduğunu kontrol ediniz. Cevap Kâğıdı size ait değilse, görevlileri uyarıp size ait Cevap Kâğıdını alınız. Daha sonra Cevap Kâğıdı üzerinde ayrılmış olan yerlere öğrenci numaranızı ve test grubunuzu kodlayınız, adınızı soyadınızı yazınız ve ilgili yeri imzalayınız.
6. Cevap Kâğıdına yazılacak her türlü yazı, rakam ve yapılacak işaretlemeler için siyah kurşun kalem kullanılacaktır. Tükenmez kalem veya dolmakalem kesinlikle kullanılmayacaktır. Cevapların tümü CEVAP KÂĞIDINA İŞARETLENECEKTİR. Soru Kitapçıkları üzerine yapılan işaretlemeler kesinlikle değerlendirilmez. Her dersin cevabı, o dersin isminin yazılı olduğu sütuna işaretlenmelidir. Yanlış sütuna yapacağınız işaretlemeler kesinlikle değerlendirilmez.
7. Soru Kitapçığının sayfalarındaki boş yerleri müsvedde yapmak için kullanabilirsiniz. Başka bir kâğıdı müsvedde olarak kullanmak yasaktır. Bu tür işlemleri yapanların sınavları geçersiz sayılır.
8. Öğrencilerin sorulara verdikleri yanıtları herhangi bir yere yazmaları ve bunu sınav salonundan dışarıya çıkarmaları yasaktır. Bu kurala uymayanların sınavları geçersiz sayılır.
9. Sınav sırasında öğrencilerin birbirinden kalem, silgi vb. şeyleri istemesi kesinlikle yasaktır. Yasağa uymayanların sınavı geçersiz sayılır.
10. Sınav sırasında hesap makinesi kullanılabilir. Ancak, hesap makinesinin sınav sırasında ödünç alınması, verilmesi ve değiştirilmesi yasaktır. (Data Bank vb. gibi özel elektronik donanımlar kullanılamaz.) Bu tür davranışlarda bulunanların sınavları geçersiz sayılır.
11. Öğrenciler sınava gelirken telsiz, cep telefonu, çağrı cihazı vb. iletişim araçları ile görüntü kaydetmeye yarayan fotoğraf makinesi, kamera vb. araçları getirmemeleri konusunda sınava giriş belgelerinde uyarılmışlardır. Buna rağmen yanlarında bu tür cihazları getirenlerin, bunları sınav sonrasında almak üzere salon başkanına teslim etmeleri gerekir. Bu cihazları sınav salonunda yanlarında bulunduran öğrencilerin, cihazları kapalı bile olsa, o oturumdaki sınavı geçersiz sayılacaktır. Bu cihazların kaybolmasından Üniversitemiz sorumlu olmayacaktır.
12. Biraz sonra dağıtılacak olan soru kitapçığında test ile ilgili açıklamalar yazılıdır. Bu açıklamaları okumadan ve size "SINAV BAŞLAMIŞTIR" denmeden soruları cevaplamaya başlamayınız.

SINAVLARINIZDA BAŞARILAR DİLERİZ.